


Name:

Klasse:

Datum:

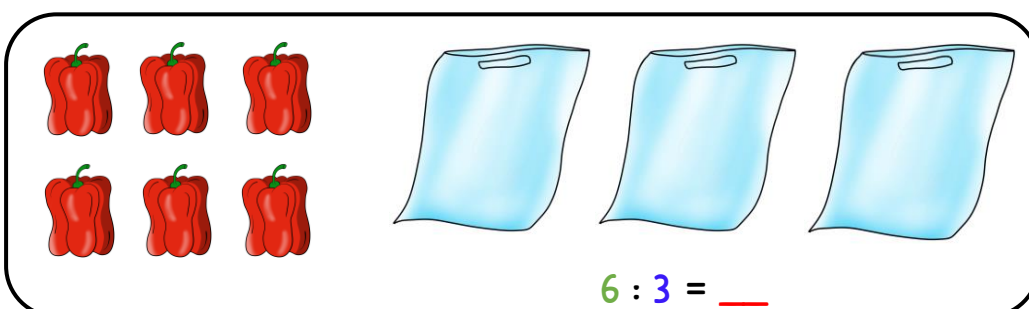


Division kennenlernen: Verteilen

15 Erdbeeren werden gerecht auf 3 Tüten verteilt.
Finde heraus, wie viele Erdbeeren in jeder Tüte sind.



$15 : 3 = 5$ → In jeder Tüte sind 5 Erdbeeren.

1. Verteile gerecht mit dem Piratentipp. Rechne aus.



Wenn du nacheinander immer ein Stück Obst in jede Tüte legst, sind am Ende überall gleich viele Stücke! So wie beim Verteilen von Karten arrr!



2. Verteile gerecht und rechne aus. Zeichne die Punkte rot ein.

$24 : 4 = \underline{\quad}$

$24 : 6 = \underline{\quad}$

$15 : 5 = \underline{\quad}$

$24 : 8 = \underline{\quad}$

3. Löse die Aufgaben. Du kannst die Aufgaben als Hilfe auch aufzeichnen.

a) $16 : 2 = \underline{\quad}$

b) $16 : 4 = \underline{\quad}$

c) $35 : 7 = \underline{\quad}$

$30 : 6 = \underline{\quad}$

$32 : 8 = \underline{\quad}$

$27 : 9 = \underline{\quad}$

$18 : 3 = \underline{\quad}$

$20 : 5 = \underline{\quad}$

$12 : 2 = \underline{\quad}$

$28 : 7 = \underline{\quad}$

$12 : 3 = \underline{\quad}$

$36 : 6 = \underline{\quad}$