

Name:

Klasse:

Datum:

Schriftliche Addition

1. Kreise das Wechselgeld ein und rechne das Ergebnis aus. Du wechselst immer, wenn du 10 oder mehr Geldstücke von einer Sorte hast.

H	Z	E
	10	

H	Z	E	
1	2	8	
+	3	1	4
	1		
4	4	2	

H	Z	E
	10	

H	Z	E	
2	1	9	
+	4	3	5
	1		
6	5	4	

2. Lege mit Rechengeld und rechne aus. Denke an das Wechselgeld!

H	Z	E	
3	5	9	
+	2	3	5
	1		
5	9	4	


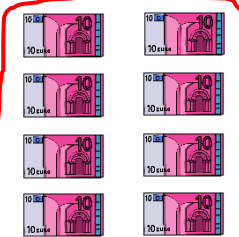



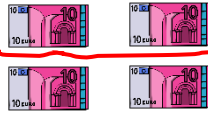


H	Z	E	
6	2	7	
+	3	5	8
	1		
9	8	5	

H	Z	E	
1	3	7	
+	5	2	4
	1		
6	6	1	

H	Z	E	
4	3	8	
+	4	3	8
	1		
8	7	6	



3. Wechsle zehn 10€ - Scheine gegen einen 100€ - Schein und rechne aus.

H	Z	E
		
 		
		

H	Z	E	
1	8	2	
+	2	4	3
1			
4	2	5	

4. Lege mit Rechengeld und rechne aus. Denke an das Wechselgeld!

H	Z	E	
3	9	4	
+	3	2	4
1			
7	1	8	

H	Z	E	
3	9	4	
+	4	6	5
1			
8	5	9	

H	Z	E	
2	6	3	
+	4	6	5
1			
7	2	8	

H	Z	E	
2	6	3	
+	3	7	4
1			
6	3	7	

5. Lege mit Rechengeld und rechne. Manchmal musst du 2 Mal Geld wechseln!

3 2 4	1 8 0	1 8 9	2 4 4
+ 3 3 8	+ 7 7 7	+ 1 4 3	+ 6 7 8
1	1	1 1	1 1
6 6 2	9 5 7	3 3 2	9 2 2
1 4 2	2 9 5	4 5 2	2 9 5
+ 6 3 9	+ 3 5 7	+ 3 5 2	+ 4 0 5
1	1 1	1	1 1
7 8 1	6 5 2	8 0 4	7 0 0

