


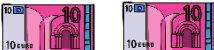





Name:

Klasse:







Datum:

Schriftliche Addition

1. Kreise das Wechselgeld ein und rechne das Ergebnis aus. Du wechselst immer, wenn du 10 oder mehr Geldstücke von einer Sorte hast.

H	Z	E
		
		
	10 	

H	Z	E
1	2	8
+	3	1
		4
	1	
		2

H	Z	E
		
		

H	Z	E
2	1	9
+	4	3
		5

2. Lege mit Rechengeld und rechne aus. Denke an das Wechselgeld!

H	Z	E
3	5	9
+	2	3
		5
	1	


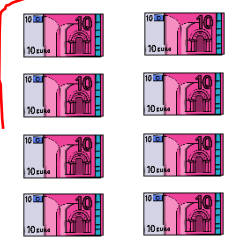




H	Z	E
6	2	7
+	3	5
		8

H	Z	E
1	3	7
+	5	2
		4

H	Z	E
4	3	8
+	4	3
		8



3. Wechsle zehn 10€ - Scheine gegen einen 100€ - Schein und rechne aus.

H	Z	E
		
 		

H	Z	E
1	8	2
2	4	3

4. Lege mit Rechengeld und rechne aus. Denke an das Wechselgeld!

H	Z	E
3	9	4
+	3	2
1		

H	Z	E
3	9	4
+	4	6

H	Z	E
2	6	3
+	4	6

H	Z	E
2	6	3
+	3	7

5. Lege mit Rechengeld und rechne. Manchmal musst du 2 Mal Geld wechseln!

3 2 4	1 8 0	1 8 9	2 4 4
+ 3 3 8	+ 7 7 7	+ 1 4 3	+ 6 7 8
		1 1	
1 4 2	2 9 5	4 5 2	2 9 5
+ 6 3 9	+ 3 5 7	+ 3 5 2	+ 4 0 5

