




Name:

Klasse:




Datum:

Schriftliche Multiplikation 1

1. Rechne das Ergebnis aus. Wenn du 10 oder mehr Münzen hast, wechselst du sie gegen einen 10€ - Schein ein.

H	Z	E
	 <div style="border: 1px solid blue; padding: 2px; display: inline-block; margin-left: 10px;">10</div>	
$3 \cdot 3 = 9$	$1 \cdot 3 = 3$ $3 + 1 = 4$	$4 \cdot 3 = 12$


	1			
3	1	4	.	3
		9	4	2

H	Z	E
	 <div style="border: 1px solid blue; padding: 2px; display: inline-block; margin-left: 10px;">10</div>	
$1 \cdot 4 = 4$	$2 \cdot 4 = 8$ $8 + 1 = 9$	$3 \cdot 4 = 12$

	1			
1	2	3	.	4
		4	9	2

2. Verbinde jede schriftliche Aufgabe mit der passenden halbschriftlichen Aufgabe. Rechne anschließend aus.

	1			
1	1	6	.	2
		2	3	2


 = _____

$5 \cdot 3 = 15$

$20 \cdot 3 = 60$

$300 \cdot 3 = 900$

	1			
3	2	5	.	3
		9	7	5


 = _____

$6 \cdot 2 = 12$

$10 \cdot 2 = 20$

$100 \cdot 2 = 200$

	1			
2	1	5	.	3
		6	4	5

 = _____

$5 \cdot 3 = 15$

$10 \cdot 3 = 30$

$200 \cdot 3 = 600$



