

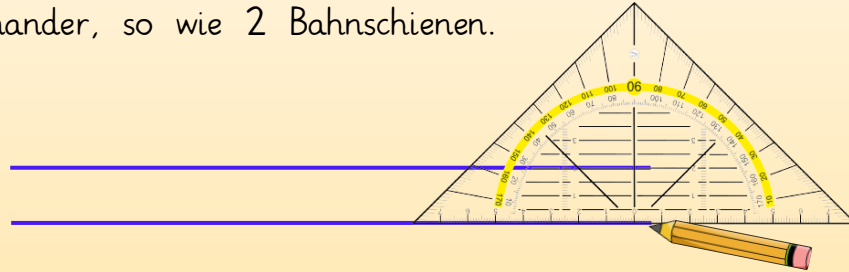
Name:

Klasse:

Datum:

Geodreieck: Senkrecht und parallel

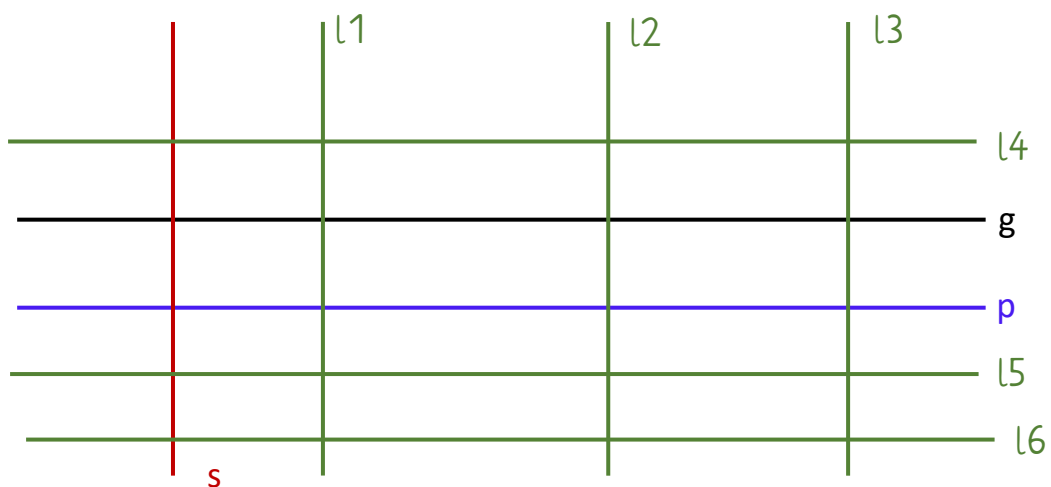
Wenn 2 Linien zueinander **parallel** sind, haben sie immer den gleichen Abstand zueinander, so wie 2 Bahnschienen.



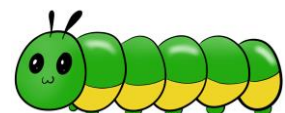
Wenn 2 Linien **senkrecht** sind, haben sie einen rechten Winkel zueinander, so, wie die Spitze des Geodreiecks. Senkrechte Linien kannst du mit der **Mittellinie des Geodreiecks** zeichnen.



1. Hier siehst du eine Gerade g , zu der eine **parallele Gerade p** und eine **senkrechte Gerade s** gezeichnet wurde. Zeichne **3 weitere parallele** und **3 weitere senkrechte** Geraden mit dem Geodreieck ein.



Eine Gerade ist eine gerade Linie, die du so lang zeichnen kannst, wie du möchtest.



2. Zeichne die Bilder auf der linken Seite rechts mit deinem Geodreieck ab. Miss immer aus, wie lang die Linien sind. Beachte beim Zeichnen mit dem Geodreieck die **parallelen** und **senkrechten** Linien.

