

Name:

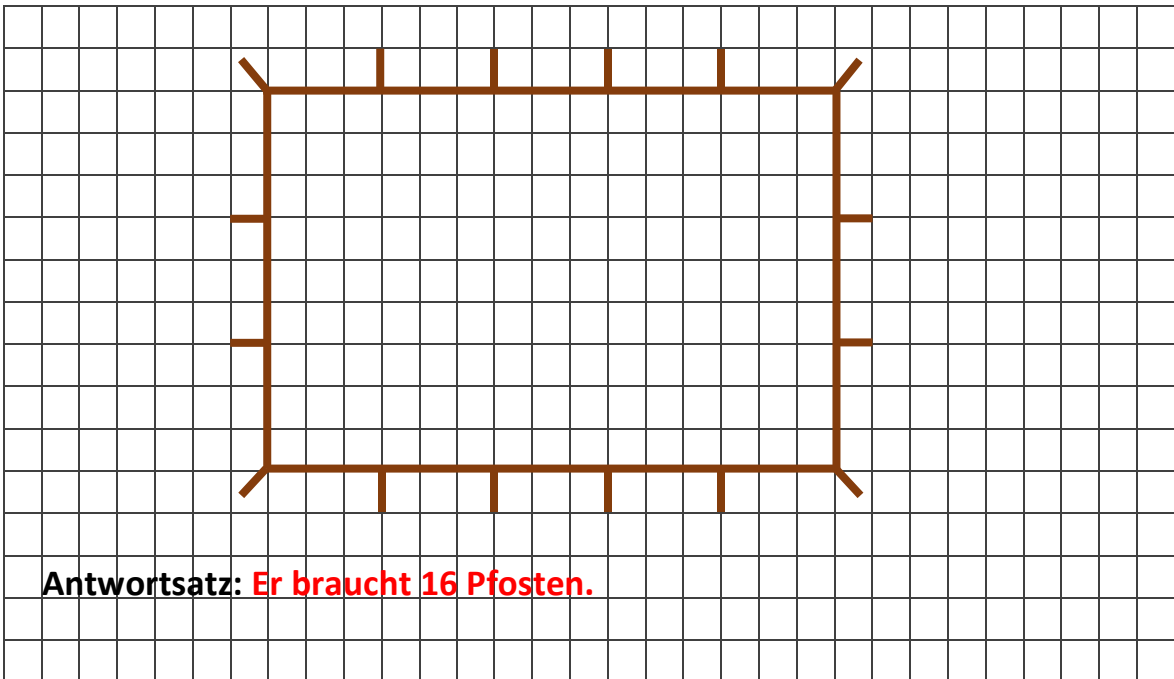
Klasse:

Datum:

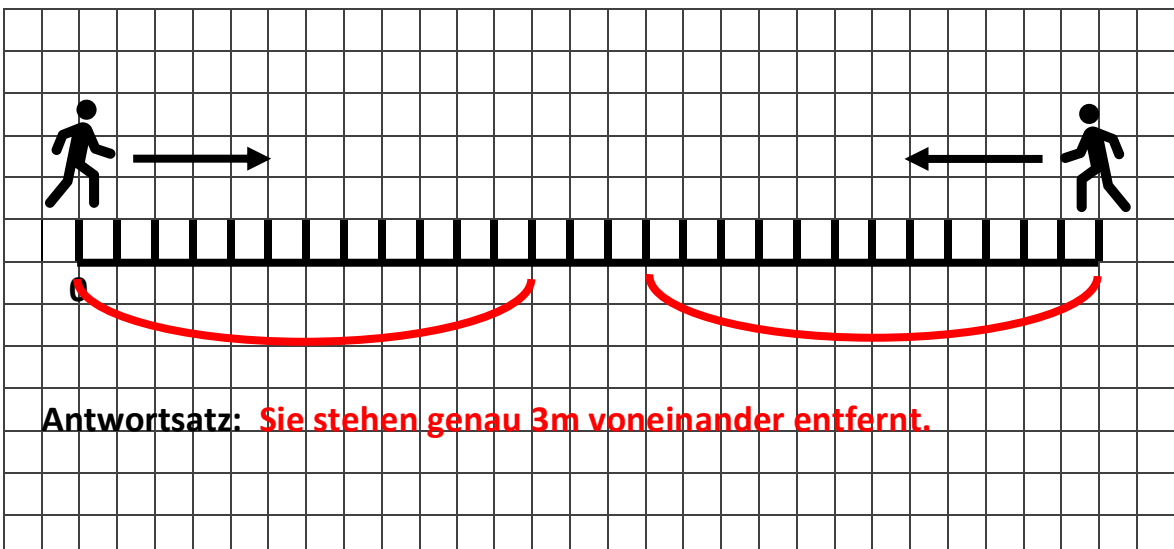
## Skizzen zu Sachaufgaben zeichnen

### 1. Vervollständige zuerst die Skizze. Löse danach die Sachaufgabe.

- a) Herr Gärtner will um seinen Schrebergarten einen neuen Zaun bauen. Der Garten ist 9m lang und 15 m breit. Wie viele Pfosten benötigt er, wenn er sie im Abstand von jeweils 3m setzen will?

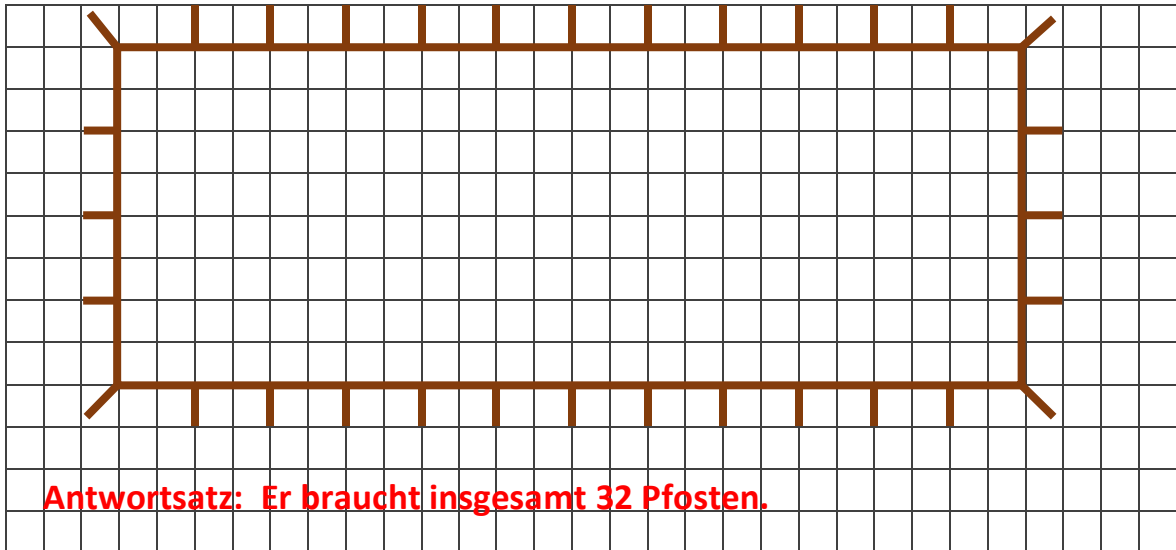


- b) Hans und Franz stehen 27m voneinander entfernt. Nun laufen beide 12m aufeinander zu. Wie weit stehen sie jetzt voneinander entfernt?

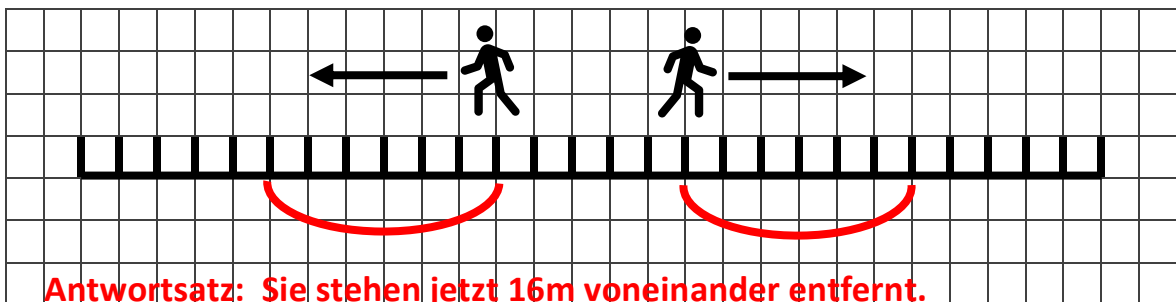


**2. Zeichne zu jeder Sachaufgabe eine Skizze und löse sie.**

- a) Franz hat ein großes Beet in seinem Garten. Das Beet ist 24m lang und 8 Meter breit. Er will es einzäunen. Dafür setzt er alle 2m einen Pfosten. Wie viele Pfosten braucht er?



- b) Hans und Franz stehen 5m voneinander entfernt. Nun geht jeder 6m vom Anderen weg. Wie weit stehen sie jetzt voneinander entfernt?



- c) An einer 24m langen Straße stehen auf einer Seite Bäume im Abstand von 4m. Wie viele Bäume stehen an der Straße?

