

Name:

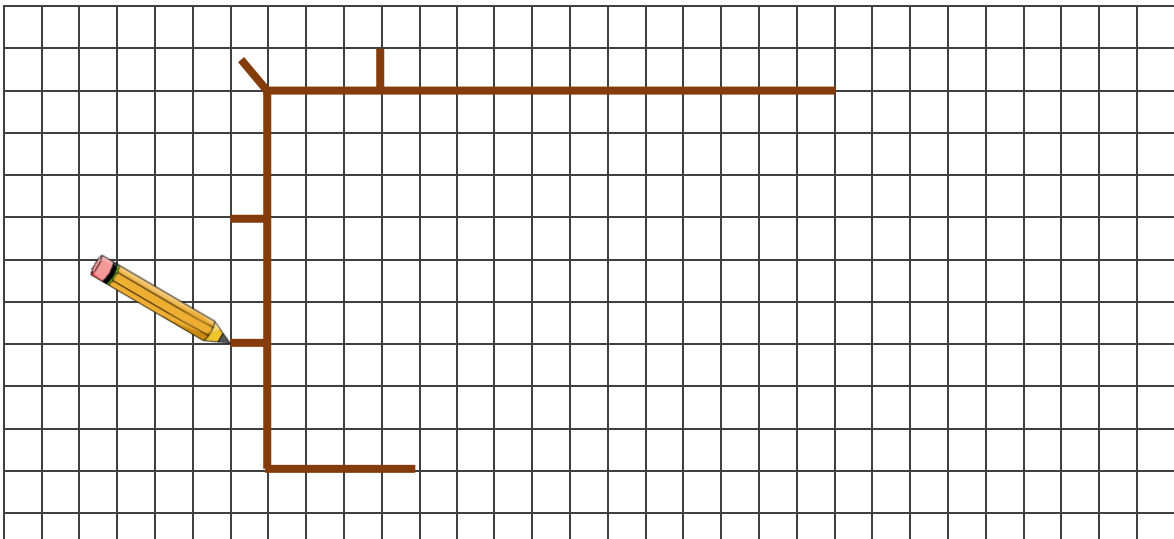
Klasse:

Datum:

## Skizzen zu Sachaufgaben zeichnen

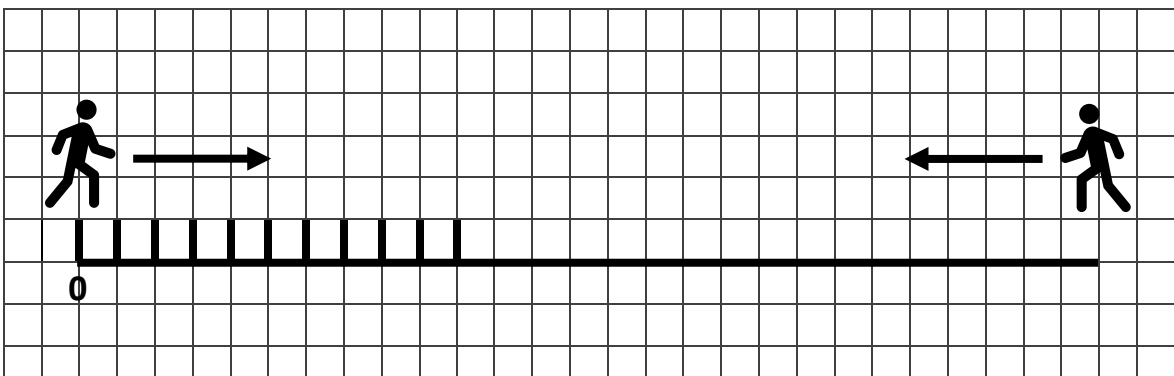
### 1. Vervollständige zuerst die Skizze. Löse danach die Sachaufgabe.

- a) Herr Gärtner will um seinen Schrebergarten einen neuen Zaun bauen. Der Garten ist 9m lang und 15 m breit. Wie viele Pfosten benötigt er, wenn er sie im Abstand von jeweils 3m setzen will?



**Antwortsatz:**

- b) Hans und Franz stehen 27m voneinander entfernt. Nun laufen beide 12m aufeinander zu. Wie weit stehen sie jetzt voneinander entfernt?




**Antwortsatz:**




**2. Zeichne zu jeder Sachaufgabe eine Skizze und löse sie.**

a) Franz hat ein großes Beet in seinem Garten. Das Beet ist 24m lang und 8 Meter breit. Er will es einzäunen. Dafür setzt er alle 2m einen Pfosten. Wie viele Pfosten braucht er?



b) Hans und Franz stehen 5m voneinander entfernt. Nun geht jeder 6m vom Anderen weg. Wie weit stehen sie jetzt voneinander entfernt?



c) An einer 24m langen Straße stehen auf einer Seite Bäume im Abstand von 4m. Wie viele Bäume stehen an der Straße?

