

Name:


Klasse:

Datum:

## Sachaufgaben: Mal und Plus unterscheiden

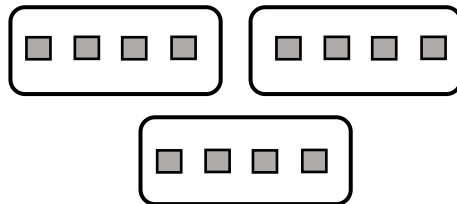
Wenn etwas dazugegeben wird, rechnest du Plus. Wenn **immer wieder die gleiche Anzahl** dazugegeben wird, rechnest du mal.

Du hast 3 Würfel. Du legst 4 Würfel dazu.



$$3 + 4 = 7$$

Vor dir liegen 3 Kisten. In **jeder Kiste** liegen 4 Würfel



$$3 \cdot 4 = 12$$

1. a) Schreibe unter jede Zeichnung die passende Rechnung.

b) Verbinde jede Sachaufgabe mit einer passenden Zeichnung.

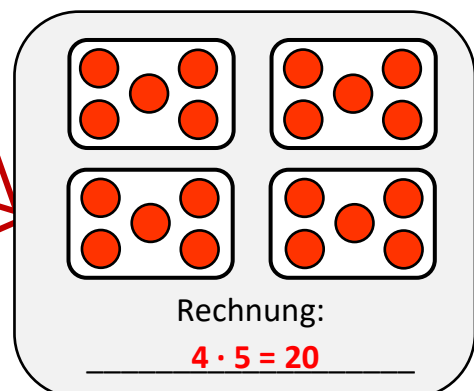
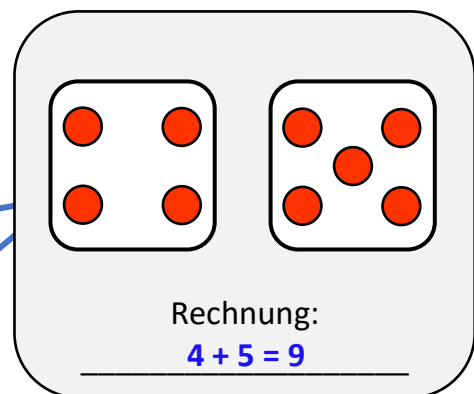
Du kaufst 4 Pakete Äpfel. In **jedem** Paket sind 5 Äpfel.

Du kaufst 4 Mandarinen und 5 Äpfel. Wie viel Obst hast du?

Im Schrank stehen 4 Tassen. Du stellst 5 Tassen dazu.

Im Raum stehen 4 Tische. Auf **jedem** Tisch stehen 5 Tassen.

Du malst 4 Bilder. **Pro Bild** malst du **immer** 5 Kinder.

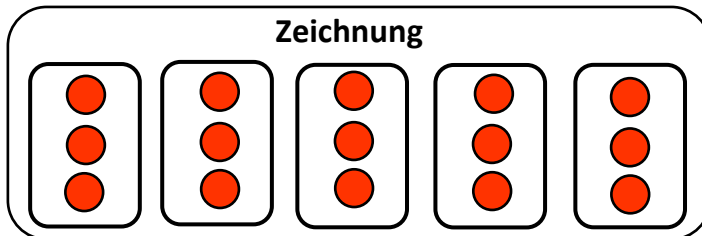


2. An welchen Wörtern hast du erkannt, dass du mal rechnen musst? Markiere diese Wörter farbig.



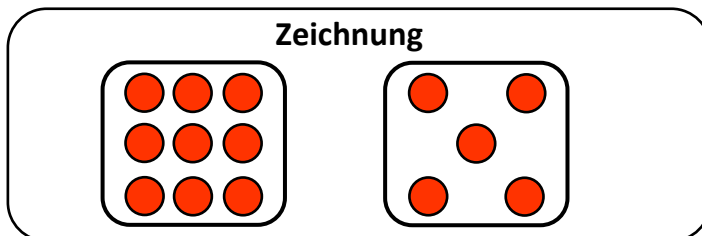
**3. Plusaufgabe oder Malaufgabe? Erstelle zu jeder Aufgabe eine passende Zeichnung und rechne sie aus.**

- a) Auf einer Wiese stehen 5 Apfelbäume. An **jedem** Baum hängen 3 Äpfel.



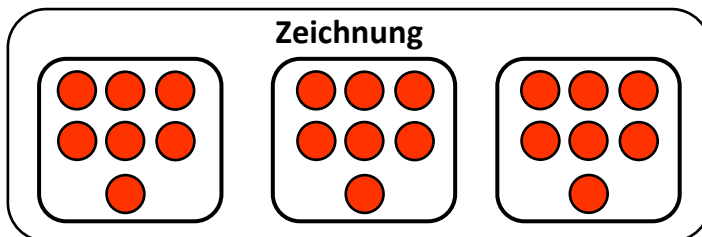
R	e	c	h	n	u	n	g
	5	.	3	=	1	3	

- b) In der Sporthalle liegen 9 Bälle. Die Lehrerin legt 5 Bälle dazu.



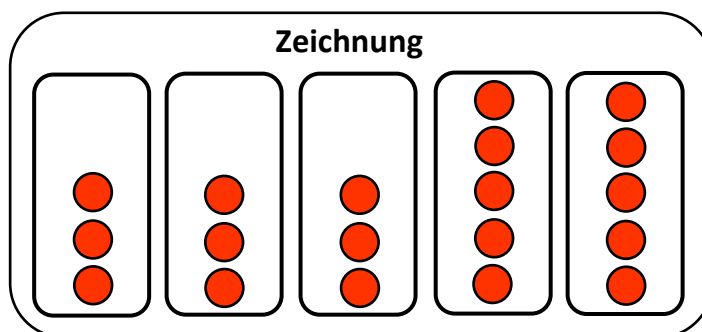
R	e	c	h	n	u	n	g
	9	+	5	=	1	4	

- c) Du kaufst 3 Pakete Sammelkarten. In **jedem** Paket sind immer 7 Karten.



R	e	c	h	n	u	n	g
	3	.	7	=	2	1	

- d) Du sammelst an 3 Tagen **immer** 3 Muscheln **pro Tag**. Danach sammelst du an 2 Tagen **immer** 5 Muscheln. Wie viele Muscheln sind es nach 5 Tagen?



R	e	c	h	n	u	n	g
	3	.	3	=	9		
	2	.	5	=	1	0	
	9	+	1	0	=	1	9

**4. Markiere die Wörter farbig, an denen du erkannt hast, dass du mal rechnen musst.**

