

Name:


Klasse:

Datum:

Sachaufgaben: Mal und Plus unterscheiden

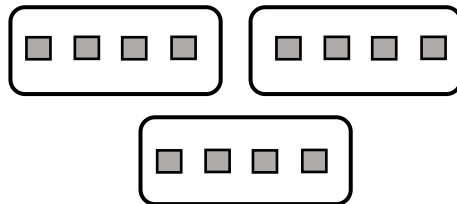
Wenn etwas dazugegeben wird, rechnest du Plus. Wenn **immer wieder die gleiche Anzahl** dazugegeben wird, rechnest du mal.

Du hast 3 Würfel. Du legst 4 Würfel dazu.



$$3 + 4 = 7$$

Vor dir liegen 3 Kisten. In **jeder Kiste** liegen 4 Würfel



$$3 \cdot 4 = 12$$

1. a) Schreibe unter jede Zeichnung die passende Rechnung.

b) Verbinde jede Sachaufgabe mit einer passenden Zeichnung.

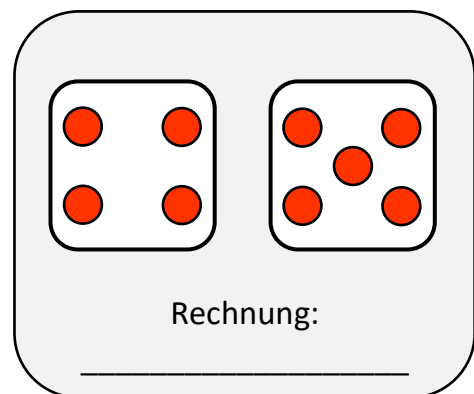
Du kaufst 4 Pakete Äpfel. In jedem Paket sind 5 Äpfel.

Du kaufst 4 Mandarinen und 5 Äpfel. Wie viel Obst hast du?

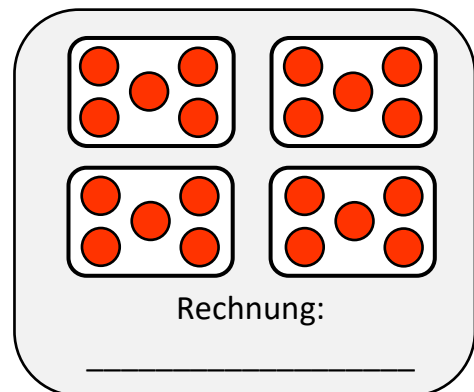
Im Schrank stehen 4 Tassen. Du stellst 5 Tassen dazu.

Im Raum stehen 4 Tische. Auf jedem Tisch stehen 5 Tassen.

Du malst 4 Bilder. Pro Bild malst du immer 5 Kinder.



Rechnung:



Rechnung:

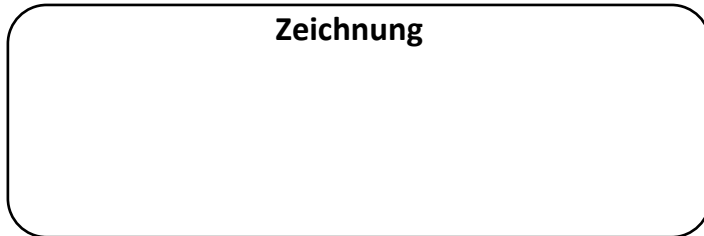
2. An welchen Wörtern hast du erkannt, dass du mal rechnen musst? Markiere diese Wörter farbig.



3. Plusaufgabe oder Malaufgabe? Erstelle zu jeder Aufgabe eine passende Zeichnung und rechne sie aus.

a) Auf einer Wiese stehen 5 Apfelbäume. An jedem Baum hängen 3 Äpfel.

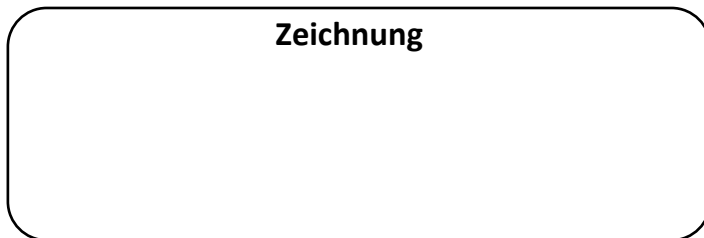
Zeichnung



R	e	c	h	n	u	n	g		

b) In der Sporthalle liegen 9 Bälle. Die Lehrerin legt 5 Bälle dazu.

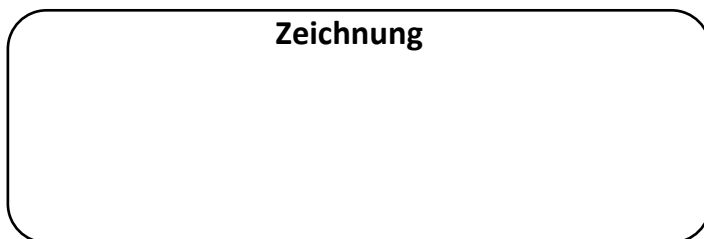
Zeichnung



R	e	c	h	n	u	n	g		

c) Du kaufst 3 Pakete Sammelkarten. In jedem Paket sind immer 7 Karten.

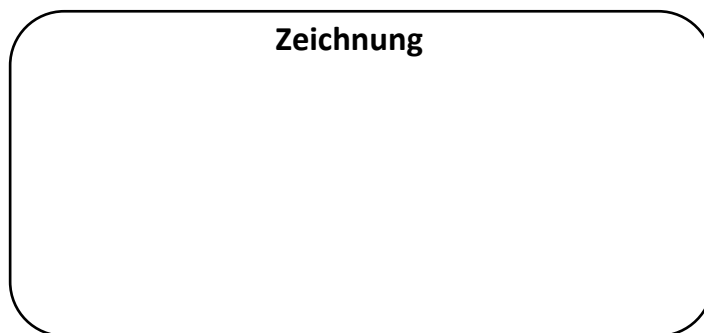
Zeichnung



R	e	c	h	n	u	n	g		

d) Du sammelst an 3 Tagen immer 3 Muscheln pro Tag. Danach sammelst du an 2 Tagen immer 5 Muscheln. Wie viele Muscheln sind es nach 5 Tagen?

Zeichnung



R	e	c	h	n	u	n	g		

4. Markiere die Wörter farbig, an denen du erkannt hast, dass du mal rechnen musst.