

Name:

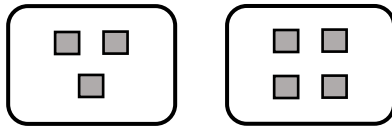
Klasse:

Datum:

Sachaufgaben: Multiplikation erkennen

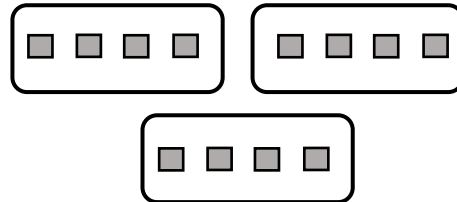
Wenn etwas dazugegeben wird, addierst du (= Plus rechnen). Wenn **immer wieder die gleiche Anzahl** dazugegeben wird, multiplizierst du (= mal rechnen).

Du hast 3 Würfel. Du legst 4 Würfel dazu.



$$3 + 4 = 7$$

Vor dir liegen 3 Kisten. In **jeder Kiste** liegen 4 Würfel



$$3 \cdot 4 = 12$$

1. a) Schreibe unter jede Zeichnung die passende Rechnung.

b) Verbinde jede Sachaufgabe mit einer passenden Zeichnung.

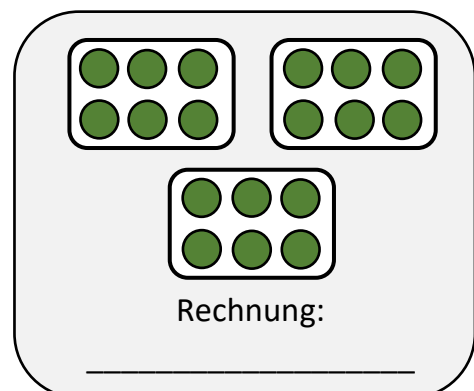
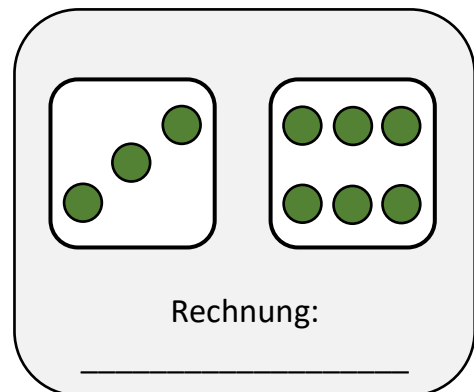
3 Kinder spielen auf dem Schulhof.
6 Kinder kommen dazu.

3 Mannschaften spielen Basketball.
In jeder Mannschaft spielen 6 Kinder.

Paul und Paula essen Burger. Paul isst
3 Stück, Paula isst 6.

Du kaufst 3 Pakete Eier. In jedem
Paket sind immer 6 Eier.

Du bist 3 Tage bei Oma. An allen 3
Tagen isst du immer 6 Stück Kuchen.



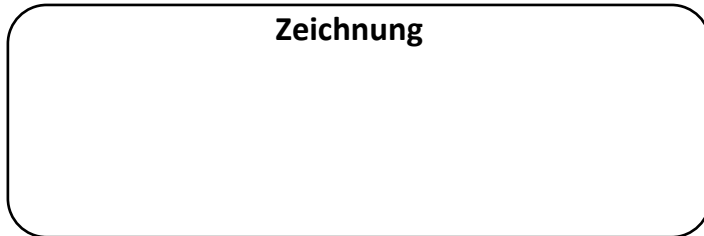
2. An welchen Wörtern hast du erkannt, dass du multiplizieren musst? Markiere diese Wörter farbig.



3. Addition oder Multiplikation? Erstelle zu jeder Aufgabe eine passende Zeichnung und rechne sie aus.

a) Oma hat 9 Kekse. Du schenkst ihr noch 7 Kekse zum Geburtstag.

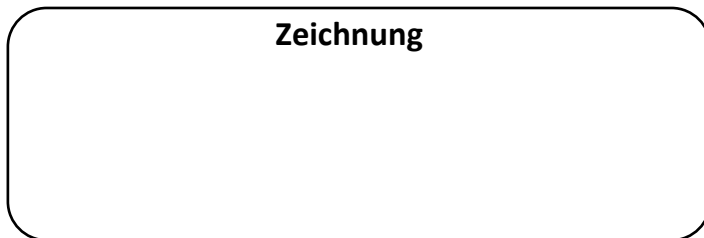
Zeichnung



R	e	c	h	n	u	n	g		

b) Oma bekommt 3 Pakete. In jedem Paket befinden sich 3 Bücher.

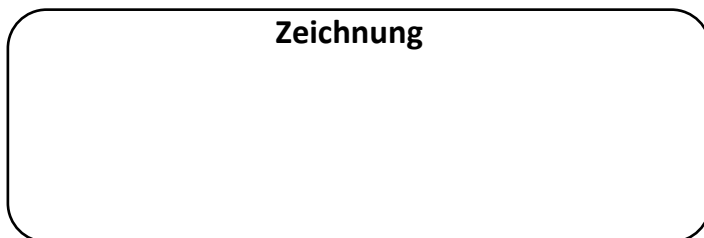
Zeichnung



R	e	c	h	n	u	n	g		

c) Oma trinkt 4 Tassen Kaffee. Sie tut immer 5 Würfel Zucker hinein, weil sie sowieso keine Zähne mehr hat.

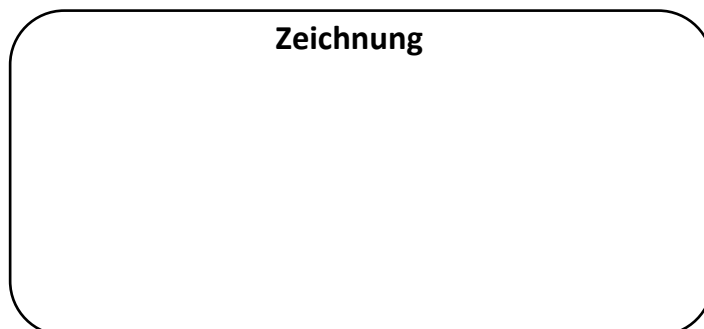
Zeichnung



R	e	c	h	n	u	n	g		

d) Du backst mit Oma 3 Pizzen. Du legst auf jede Pizza 3 Scheiben Salami. Oma legt auf jede Pizza nochmal 4 Scheiben dazu. Wie viele Scheiben Salami sind das?

Zeichnung



R	e	c	h	n	u	n	g		

4. Markiere die Wörter farbig, an denen du die Malaufgaben erkannt hast.