

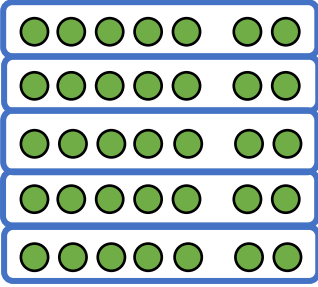

Name:

Klasse:

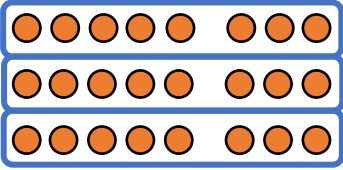
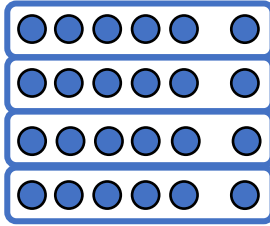
Datum:

Division wiederholen

1. Schreibe zu jedem Bild die passende Geteilt Aufgabe und die verwandte Malaufgabe.


$$35 : 7 = 5$$
$$5 \cdot 7 = 35$$

$$54 : 9 = 6$$
$$6 \cdot 9 = 54$$

2. Zeichne ein passendes Bild mit Punkten. Ergänze die verwandte Malaufgabe.


$$24 : 8 = 3$$
$$3 \cdot 8 = 24$$

$$24 : 6 = 4$$
$$4 \cdot 6 = 24$$

3. Rechne aus und schreibe die verwandte Malaufgabe dazu.

a) $12 : 3 = 4$
 $4 \cdot 3 = 12$

b) $30 : 5 = 6$
 $6 \cdot 5 = 30$

c) $32 : 4 = 8$
 $8 \cdot 4 = 32$

d) $42 : 7 = 9$
 $9 \cdot 7 = 63$

e) $18 : 6 = 3$
 $3 \cdot 6 = 18$

f) $48 : 8 = 6$
 $6 \cdot 8 = 48$



4. Rechne aus und schreibe die verwandte Geteiltaufgabe dazu.

a) $6 \cdot 4 = 24$

$24 : 4 = 6$

b) $7 \cdot 2 = 14$

$14 : 2 = 7$

c) $5 \cdot 6 = 30$

$30 : 6 = 5$

d) $3 \cdot 9 = 27$

$27 : 9 = 3$

e) $6 \cdot 10 = 60$

$60 : 10 = 6$

f) $2 \cdot 8 = 16$

$16 : 8 = 2$

g) $9 \cdot 4 = 36$

$36 : 4 = 9$

h) $8 \cdot 5 = 40$

$40 : 5 = 8$

i) $4 \cdot 8 = 32$

$32 : 8 = 4$

5. Rechne aus und färbe die verwandten Aufgaben mit der gleichen Farbe.

$3 \cdot 8 = 24$

$72 : 8 = 9$

$7 \cdot 8 = 56$

$24 : 8 = 3$

$7 \cdot 9 = 63$

$3 \cdot 9 = 27$

$63 : 9 = 7$

$9 \cdot 9 = 81$

$81 : 9 = 9$

$56 : 8 = 7$

$9 \cdot 8 = 72$

$27 : 9 = 3$

6. Löse die Aufgaben.

a) $9 : 3 = 3$

$15 : 5 = 3$

$12 : 2 = 6$

$36 : 6 = 6$

b) $12 : 4 = 3$

$63 : 9 = 7$

$21 : 7 = 3$

$80 : 10 = 8$

c) $28 : 4 = 7$

$18 : 2 = 9$

$45 : 9 = 9$

$40 : 5 = 8$

d) $48 : 8 = 6$

$15 : 3 = 5$

$40 : 10 = 4$

$42 : 7 = 6$

e) $25 : 5 = 5$

$64 : 8 = 8$

$16 : 4 = 4$

$48 : 6 = 8$

f) $54 : 9 = 6$

$49 : 7 = 7$

$42 : 6 = 7$

$56 : 8 = 7$

