

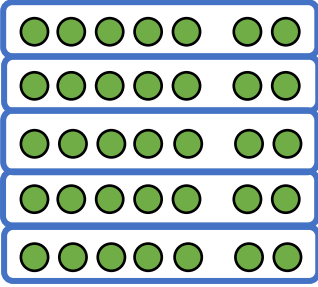
Name:

Klasse:


Datum:

Division wiederholen

1. Schreibe zu jedem Bild die passende Geteilt Aufgabe und die verwandte Malaufgabe.



$35 : \underline{\quad} = \underline{\quad}$
 $\underline{\quad} \cdot \underline{\quad} = \underline{\quad}$



$\underline{\quad} : \underline{\quad} = \underline{\quad}$
 $\underline{\quad} \cdot \underline{\quad} = \underline{\quad}$

2. Zeichne ein passendes Bild mit Punkten. Ergänze die verwandte Malaufgabe.

$24 : 8 = \underline{\quad}$
 $\underline{\quad} \cdot \underline{\quad} = \underline{\quad}$

$24 : 6 = \underline{\quad}$
 $\underline{\quad} \cdot \underline{\quad} = \underline{\quad}$

3. Rechne aus und schreibe die verwandte Malaufgabe dazu.

a) $12 : 3 = \underline{\quad}$
 $4 \cdot \underline{\quad} = \underline{\quad}$

b) $30 : 5 = \underline{\quad}$
 $\underline{\quad} \cdot \underline{\quad} = \underline{\quad}$

c) $32 : 4 = \underline{\quad}$
 $\underline{\quad} \cdot \underline{\quad} = \underline{\quad}$

d) $42 : 7 = \underline{\quad}$
 $\underline{\quad} \cdot \underline{\quad} = \underline{\quad}$

e) $18 : 6 = \underline{\quad}$
 $\underline{\quad} \cdot \underline{\quad} = \underline{\quad}$

f) $48 : 8 = \underline{\quad}$
 $\underline{\quad} \cdot \underline{\quad} = \underline{\quad}$



4. Rechne aus und schreibe die verwandte Geteiltaufgabe dazu.

a) $6 \cdot 4 = \underline{\quad}$

$24 : \underline{\quad} = \underline{\quad}$

b) $7 \cdot 2 = \underline{\quad}$

$\underline{\quad} : \underline{\quad} = \underline{\quad}$

c) $5 \cdot 6 = \underline{\quad}$

$\underline{\quad} : \underline{\quad} = \underline{\quad}$

d) $3 \cdot 9 = \underline{\quad}$

$\underline{\quad} : \underline{\quad} = \underline{\quad}$

e) $6 \cdot 10 = \underline{\quad}$

$\underline{\quad} : \underline{\quad} = \underline{\quad}$

f) $2 \cdot 8 = \underline{\quad}$

$\underline{\quad} : \underline{\quad} = \underline{\quad}$

g) $9 \cdot 4 = \underline{\quad}$

$\underline{\quad} : \underline{\quad} = \underline{\quad}$

h) $8 \cdot 5 = \underline{\quad}$

$\underline{\quad} : \underline{\quad} = \underline{\quad}$

i) $4 \cdot 8 = \underline{\quad}$

$\underline{\quad} : \underline{\quad} = \underline{\quad}$

5. Rechne aus und färbe die verwandten Aufgaben mit der gleichen Farbe.

$3 \cdot 8 = \underline{\quad}$

$72 : 8 = \underline{\quad}$

$7 \cdot 8 = \underline{\quad}$

$24 : 8 = \underline{\quad}$

$7 \cdot 9 = \underline{\quad}$

$3 \cdot 9 = \underline{\quad}$

$63 : 9 = \underline{\quad}$

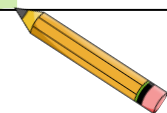
$9 \cdot 9 = \underline{\quad}$

$81 : 9 = \underline{\quad}$

$56 : 8 = \underline{\quad}$

$9 \cdot 8 = \underline{\quad}$

$27 : 9 = \underline{\quad}$



6. Löse die Aufgaben.

a) $9 : 3 = \underline{\quad}$

$15 : 5 = \underline{\quad}$

$12 : 2 = \underline{\quad}$

$36 : 6 = \underline{\quad}$

b) $12 : 4 = \underline{\quad}$

$63 : 9 = \underline{\quad}$

$21 : 7 = \underline{\quad}$

$80 : 10 = \underline{\quad}$

c) $28 : 4 = \underline{\quad}$

$18 : 2 = \underline{\quad}$

$45 : 9 = \underline{\quad}$

$40 : 5 = \underline{\quad}$

d) $48 : 8 = \underline{\quad}$

$15 : 3 = \underline{\quad}$

$40 : 10 = \underline{\quad}$

$42 : 7 = \underline{\quad}$

e) $25 : 5 = \underline{\quad}$

$64 : 8 = \underline{\quad}$

$16 : 4 = \underline{\quad}$

$48 : 6 = \underline{\quad}$

f) $54 : 9 = \underline{\quad}$

$49 : 7 = \underline{\quad}$

$42 : 6 = \underline{\quad}$

$56 : 8 = \underline{\quad}$

