

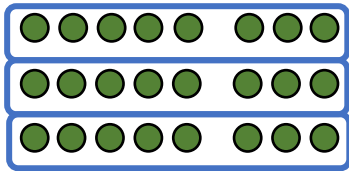
Name:

Klasse:

Datum:

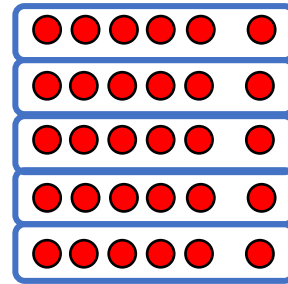
Division üben

1. Schreibe zu jedem Bild die passende Geteilt Aufgabe und die verwandte Malaufgabe.



$$24 : 8 = 3$$

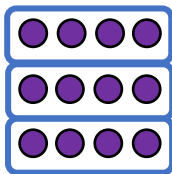
$$3 \cdot 8 = 24$$



$$30 : 6 = 5$$

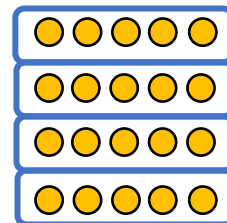
$$5 \cdot 6 = 30$$

2. Zeichne ein passendes Bild mit Punkten. Ergänze die verwandte Malaufgabe.



$$12 : 4 = 3$$

$$3 \cdot 4 = 12$$



$$20 : 5 = 4$$

$$4 \cdot 5 = 20$$

3. Rechne aus und schreibe die verwandte Malaufgabe dazu.

a) $14 : 2 = 7$

$$7 \cdot 2 = 14$$

b) $28 : 7 = 4$

$$4 \cdot 7 = 28$$

c) $16 : 4 = 4$

$$4 \cdot 4 = 16$$

d) $48 : 8 = 6$

$$6 \cdot 8 = 48$$

e) $42 : 6 = 7$

$$7 \cdot 6 = 42$$

f) $72 : 9 = 8$

$$8 \cdot 9 = 72$$



4. Rechne aus und schreibe die verwandte Geteiltaufgabe dazu.

a) $5 \cdot 10 = 50$

$50 : 10 = 5$

b) $2 \cdot 3 = 6$

$6 : 3 = 2$

c) $8 \cdot 4 = 32$

$32 : 4 = 8$

d) $6 \cdot 5 = 30$

$30 : 5 = 6$

e) $3 \cdot 7 = 21$

$21 : 7 = 3$

f) $9 \cdot 6 = 54$

$54 : 6 = 9$

g) $8 \cdot 8 = 64$

$64 : 8 = 8$

h) $8 \cdot 7 = 56$

$56 : 7 = 8$

i) $7 \cdot 8 = 56$

$56 : 8 = 7$

5. Rechne aus und färbe die verwandten Aufgaben mit der gleichen Farbe.

$4 \cdot 6 = 24$

$28 : 7 = 4$

$8 \cdot 6 = 48$

$24 : 6 = 4$

$4 \cdot 7 = 28$

$63 : 7 = 9$

$42 : 6 = 7$

$6 \cdot 7 = 42$

$42 : 7 = 6$

$48 : 6 = 8$

$9 \cdot 7 = 63$

$7 \cdot 6 = 42$

6. Löse die Aufgaben.

a) $20 : 4 = 5$

$20 : 2 = 10$

$35 : 5 = 7$

$27 : 9 = 3$

b) $18 : 6 = 3$

$15 : 3 = 5$

$16 : 2 = 8$

$36 : 4 = 9$

c) $81 : 9 = 9$

$40 : 8 = 5$

$24 : 3 = 8$

$20 : 5 = 4$

d) $70 : 7 = 10$

$10 : 2 = 5$

$60 : 6 = 10$

$24 : 8 = 3$

e) $45 : 5 = 9$

$72 : 9 = 8$

$12 : 4 = 3$

$49 : 7 = 7$

f) $64 : 8 = 8$

$12 : 3 = 4$

$36 : 6 = 6$

$36 : 9 = 4$

