

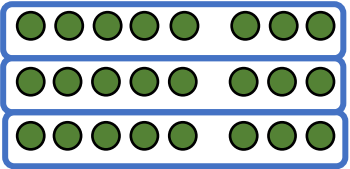
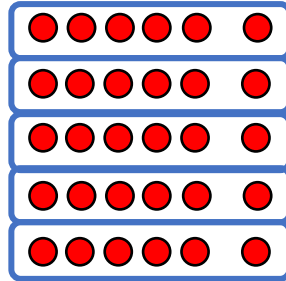
Name:

Klasse:

Datum:

## Division üben

1. Schreibe zu jedem Bild die passende Geteilt Aufgabe und die verwandte Malaufgabe.


$$24 : \underline{\quad} = \underline{\quad}$$
$$\underline{\quad} \cdot \underline{\quad} = \underline{\quad}$$

$$\underline{\quad} : \underline{\quad} = \underline{\quad}$$
$$\underline{\quad} \cdot \underline{\quad} = \underline{\quad}$$

2. Zeichne ein passendes Bild mit Punkten. Ergänze die verwandte Malaufgabe.

$$12 : 4 = 3$$
$$\underline{\quad} \cdot \underline{\quad} = \underline{\quad}$$
$$20 : 5 = \underline{\quad}$$
$$\underline{\quad} \cdot \underline{\quad} = \underline{\quad}$$

3. Rechne aus und schreibe die verwandte Malaufgabe dazu.

a)  $14 : 2 = \underline{\quad}$   
 $7 \cdot \underline{\quad} = \underline{\quad}$

b)  $28 : 7 = \underline{\quad}$   
 $\underline{\quad} \cdot \underline{\quad} = \underline{\quad}$

c)  $16 : 4 = \underline{\quad}$   
 $\underline{\quad} \cdot \underline{\quad} = \underline{\quad}$

d)  $48 : 8 = \underline{\quad}$   
 $\underline{\quad} \cdot \underline{\quad} = \underline{\quad}$

e)  $42 : 6 = \underline{\quad}$   
 $\underline{\quad} \cdot \underline{\quad} = \underline{\quad}$

f)  $72 : 9 = \underline{\quad}$   
 $\underline{\quad} \cdot \underline{\quad} = \underline{\quad}$



4. Rechne aus und schreibe die verwandte Geteiltaufgabe dazu.

a)  $5 \cdot 10 = \underline{\quad}$

$50 : \underline{\quad} = \underline{\quad}$

b)  $2 \cdot 3 = \underline{\quad}$

$\underline{\quad} : \underline{\quad} = \underline{\quad}$

c)  $8 \cdot 4 = \underline{\quad}$

$\underline{\quad} : \underline{\quad} = \underline{\quad}$

d)  $6 \cdot 5 = \underline{\quad}$

$\underline{\quad} : \underline{\quad} = \underline{\quad}$

e)  $3 \cdot 7 = \underline{\quad}$

$\underline{\quad} : \underline{\quad} = \underline{\quad}$

f)  $9 \cdot 6 = \underline{\quad}$

$\underline{\quad} : \underline{\quad} = \underline{\quad}$

g)  $8 \cdot 8 = \underline{\quad}$

$\underline{\quad} : \underline{\quad} = \underline{\quad}$

h)  $8 \cdot 7 = \underline{\quad}$


$\underline{\quad} : \underline{\quad} = \underline{\quad}$

i)  $7 \cdot 8 = \underline{\quad}$

$\underline{\quad} : \underline{\quad} = \underline{\quad}$

5. Rechne aus und färbe die verwandten Aufgaben mit der gleichen Farbe.

$4 \cdot 6 = \underline{\quad}$

  
 $28 : 7 = \underline{\quad}$

$8 \cdot 6 = \underline{\quad}$

$24 : 6 = \underline{\quad}$

$4 \cdot 7 = \underline{\quad}$

$63 : 7 = \underline{\quad}$

$42 : 6 = \underline{\quad}$

$6 \cdot 7 = \underline{\quad}$

$42 : 7 = \underline{\quad}$

$48 : 6 = \underline{\quad}$

$9 \cdot 7 = \underline{\quad}$

$7 \cdot 6 = \underline{\quad}$

6. Löse die Aufgaben.

a)  $20 : 4 = \underline{\quad}$

$20 : 2 = \underline{\quad}$

$35 : 5 = \underline{\quad}$

$27 : 9 = \underline{\quad}$

b)  $18 : 6 = \underline{\quad}$

$15 : 3 = \underline{\quad}$

$16 : 2 = \underline{\quad}$

$36 : 4 = \underline{\quad}$

c)  $81 : 9 = \underline{\quad}$

$40 : 8 = \underline{\quad}$

$24 : 3 = \underline{\quad}$

$20 : 5 = \underline{\quad}$

d)  $70 : 7 = \underline{\quad}$

$10 : 2 = \underline{\quad}$

$60 : 6 = \underline{\quad}$

$24 : 8 = \underline{\quad}$

e)  $45 : 5 = \underline{\quad}$

$72 : 9 = \underline{\quad}$

$12 : 4 = \underline{\quad}$

$49 : 7 = \underline{\quad}$

f)  $64 : 8 = \underline{\quad}$

$12 : 3 = \underline{\quad}$

$36 : 6 = \underline{\quad}$

$36 : 9 = \underline{\quad}$

