

Name:

Klasse:

Datum:


Geteiltaufgaben und Malaufgaben

1. Schreibe zu jedem Bild die passende Geteiltaufgabe und die verwandte Malaufgabe.



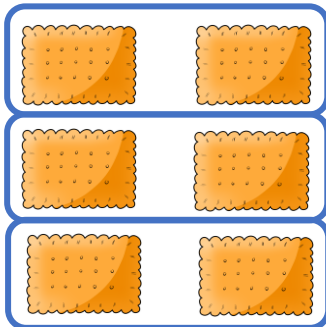
$$12 : 6 = 2$$

$$2 \cdot 6 = 12$$



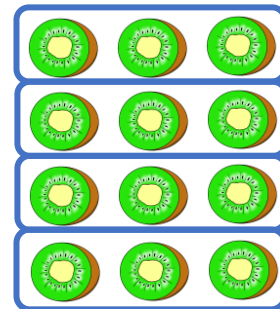
$$15 : 5 = 3$$

$$3 \cdot 5 = 15$$



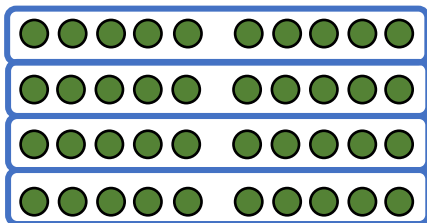
$$6 : 2 = 3$$

$$3 \cdot 2 = 6$$




$$12 : 3 = 4$$

$$4 \cdot 3 = 12$$



$$40 : 10 = 4$$

$$4 \cdot 10 = 40$$




$$40 : 8 = 5$$

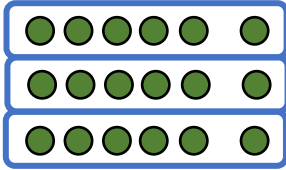
$$5 \cdot 8 = 40$$



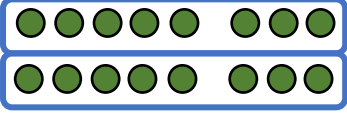
2. Zeichne ein passendes Bild mit Punkten. Ergänze die verwandte Malaufgabe.



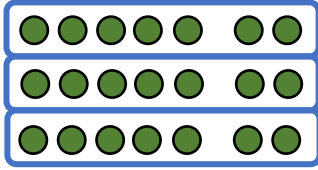
$$8 : 2 = 4$$

$$4 \cdot 2 = 8$$


$$18 : 6 = 3$$

$$3 \cdot 6 = 18$$


$$16 : 8 = 2$$

$$2 \cdot 8 = 16$$


$$21 : 7 = 3$$

$$3 \cdot 7 = 21$$

3. Rechne aus und schreibe die verwandte Malaufgabe dazu.

a) $20 : 5 = 4$
 $4 \cdot 5 = 20$

b) $24 : 3 = 8$
 $8 \cdot 3 = 24$

c) $40 : 8 = 5$
 $5 \cdot 8 = 40$

d) $35 : 7 = 5$
 $5 \cdot 7 = 35$

e) $40 : 8 = 5$
 $5 \cdot 8 = 40$

f) $36 : 9 = 4$
 $4 \cdot 9 = 36$

4. Löse die Aufgaben. Du kannst die Aufgaben als Hilfe auch aufzeichnen.

a) $18 : 2 = 9$
 $32 : 8 = 4$
 $24 : 6 = 4$

b) $45 : 5 = 9$
 $70 : 7 = 10$
 $24 : 4 = 6$

c) $21 : 3 = 7$
 $36 : 6 = 6$
 $54 : 9 = 6$