

Name:

Klasse:

Datum:


Geteiltaufgaben und Malaufgaben

1. Schreibe zu jedem Bild die passende Geteiltaufgabe und die verwandte Malaufgabe.



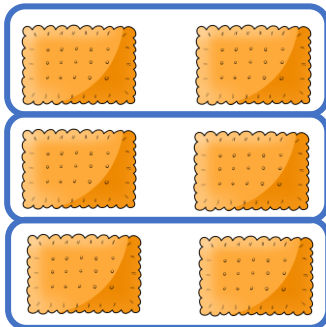
$$12 : 6 = 2$$

$$2 \cdot 6 = \underline{\quad}$$



$$15 : 5 = \underline{\quad}$$

$$\underline{\quad} \cdot 5 = \underline{\quad}$$



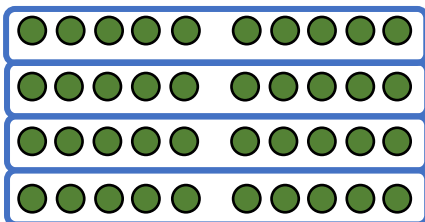
$$6 : \underline{\quad} = \underline{\quad}$$

$$\underline{\quad} \cdot \underline{\quad} = \underline{\quad}$$



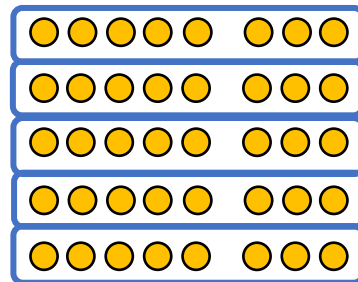
$$\underline{\quad} : \underline{\quad} = \underline{\quad}$$

$$\underline{\quad} \cdot \underline{\quad} = \underline{\quad}$$



$$\underline{\quad} : \underline{\quad} = \underline{\quad}$$

$$\underline{\quad} \cdot \underline{\quad} = \underline{\quad}$$



$$\underline{\quad} : \underline{\quad} = \underline{\quad}$$

$$\underline{\quad} \cdot \underline{\quad} = \underline{\quad}$$



2. Zeichne ein passendes Bild mit Punkten. Ergänze die verwandte Malaufgabe.

$$8 : 2 = 4$$

$$4 \cdot \underline{\quad} = \underline{\quad}$$

$$18 : 6 = 3$$

$$\underline{\quad} \cdot \underline{\quad} = \underline{\quad}$$

$$16 : 8 = \underline{\quad}$$

$$\underline{\quad} \cdot \underline{\quad} = \underline{\quad}$$

$$21 : 7 = \underline{\quad}$$

$$\underline{\quad} \cdot \underline{\quad} = \underline{\quad}$$

3. Rechne aus und schreibe die verwandte Malaufgabe dazu.

a) $20 : 5 = \underline{\quad}$

$$4 \cdot \underline{\quad} = \underline{\quad}$$

b) $24 : 3 = \underline{\quad}$

$$\underline{\quad} \cdot \underline{\quad} = \underline{\quad}$$

c) $40 : 8 = \underline{\quad}$

$$\underline{\quad} \cdot \underline{\quad} = \underline{\quad}$$

d) $35 : 7 = \underline{\quad}$

$$\underline{\quad} \cdot \underline{\quad} = \underline{\quad}$$

e) $40 : 8 = \underline{\quad}$

$$\underline{\quad} \cdot \underline{\quad} = \underline{\quad}$$

f) $36 : 9 = \underline{\quad}$

$$\underline{\quad} \cdot \underline{\quad} = \underline{\quad}$$

4. Löse die Aufgaben. Du kannst die Aufgaben als Hilfe auch aufzeichnen.

a) $18 : 2 = \underline{\quad}$

$$32 : 8 = \underline{\quad}$$

$$24 : 6 = \underline{\quad}$$

b) $45 : 5 = \underline{\quad}$

$$70 : 7 = \underline{\quad}$$

$$24 : 4 = \underline{\quad}$$

c) $21 : 3 = \underline{\quad}$

$$36 : 6 = \underline{\quad}$$

$$54 : 9 = \underline{\quad}$$