

Name:

Klasse:



Datum:

Division kennenlernen: Aufteilen

15 Erdbeeren werden in Tüten verpackt.

Immer 5 Erdbeeren sind in einer Tüte.

Wie viele Tüten sind es?




$$15 : 5 = 3$$

Es sind 3 Tüten

1. Zeichne die Tüten ein und löse die Aufgaben.


12 Äpfel, immer 4 pro Tüte



Es sind ___ Tüten

$$12 : 4 = \underline{\quad}$$

10 Bananen, immer 5 pro Tüte



Es sind ___ Tüten

$$10 : 5 = \underline{\quad}$$


18 Kiwis, immer 3 pro Tüte



Es sind ___ Tüten

$$18 : 3 = \underline{\quad}$$

24 Erdbeeren, immer 6 pro Tüte




Es sind ___ Tüten

$$24 : 6 = \underline{\quad}$$




2. Kreise immer die Punkte ein, damit die Aufgabe zu sehen ist.

30 Punkte, immer 6 einkreisen



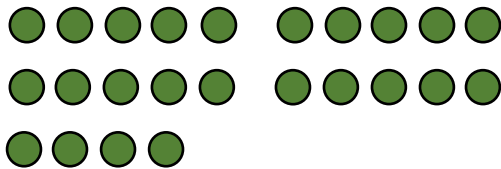
$$30 : 6 = \underline{\quad}$$

28 Punkte, immer 7 einkreisen



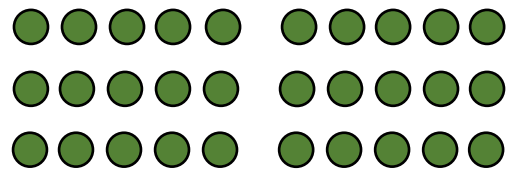
$$28 : 7 = \underline{\quad}$$

24 Punkte, immer 4 einkreisen



$$24 : \underline{\quad} = \underline{\quad}$$

30 Punkte, immer 5 einkreisen



$$30 : \underline{\quad} = \underline{\quad}$$

3. Zeichne Punkte und kreise sie ein, damit die Aufgabe zu sehen ist.

15 Punkte, immer 3 einkreisen

$$15 : 3 = \underline{\quad}$$

16 Punkte, immer 2 einkreisen

$$16 : 2 = \underline{\quad}$$

4. Löse die Aufgaben. Du kannst die Aufgaben als Hilfe auch aufzeichnen.

a) $14 : 7 = \underline{\quad}$

b) $28 : 4 = \underline{\quad}$

c) $32 : 8 = \underline{\quad}$

$18 : 6 = \underline{\quad}$

$25 : 5 = \underline{\quad}$

$18 : 9 = \underline{\quad}$

$12 : 2 = \underline{\quad}$

$12 : 3 = \underline{\quad}$

$27 : 9 = \underline{\quad}$

