

Name:

Klasse:

Datum:

Längen umwandeln

1. Wandle die Längen um, nutze die Stellenwerttafel als Hilfe.

$12 \text{ km} = \underline{12\,000} \text{ m}$

km			m			dm	cm	mm
H	Z	E	H	Z	E			
	1	2	0	0	0			

$301 \text{ m} = \underline{\hspace{2cm}} \text{ cm}$

km			m			dm	cm	mm
H	Z	E	H	Z	E			
			3	0	1	0	0	

$25 \text{ km} = \underline{\hspace{2cm}} \text{ m}$

km			m			dm	cm	mm
H	Z	E	H	Z	E			

$8 \text{ km} = \underline{\hspace{2cm}} \text{ dm}$

km			m			dm	cm	mm
H	Z	E	H	Z	E			

$352 \text{ km} = \underline{\hspace{2cm}} \text{ m}$

km			m			dm	cm	mm
H	Z	E	H	Z	E			

$1,5 \text{ m} = \underline{\hspace{2cm}} \text{ mm}$

km			m			dm	cm	mm
H	Z	E	H	Z	E			

$30,7 \text{ km} = \underline{\hspace{2cm}} \text{ m}$

km			m			dm	cm	mm
H	Z	E	H	Z	E			



2. Wandle die Längen um. Stelle dir die Zahlen in der Stellenwerttafel vor oder schreibe sie mit einem Bleistift hinein.

km			m			dm	cm	mm
H	Z	E	H	Z	E			

a) $68 \text{ km} = \underline{\hspace{2cm}} \text{ m}$

$35 \text{ km} = \underline{\hspace{2cm}} \text{ dm}$

$7 \text{ cm} = \underline{\hspace{2cm}} \text{ mm}$

$925 \text{ m} = \underline{\hspace{2cm}} \text{ cm}$

$100 \text{ km} = \underline{\hspace{2cm}} \text{ dm}$

c) $1,5 \text{ km} = \underline{\hspace{2cm}} \text{ m}$

$2,9 \text{ km} = \underline{\hspace{2cm}} \text{ m}$

$16,4 \text{ m} = \underline{\hspace{2cm}} \text{ dm}$

$84,2 \text{ m} = \underline{\hspace{2cm}} \text{ cm}$

$2,2 \text{ dm} = \underline{\hspace{2cm}} \text{ mm}$

b) $342 \text{ m} = \underline{\hspace{2cm}} \text{ cm}$

$61 \text{ km} = \underline{\hspace{2cm}} \text{ m}$

$52 \text{ km} = \underline{\hspace{2cm}} \text{ dm}$

$17 \text{ cm} = \underline{\hspace{2cm}} \text{ mm}$

$99 \text{ dm} = \underline{\hspace{2cm}} \text{ mm}$

d) $8,76 \text{ km} = \underline{\hspace{2cm}} \text{ m}$

$1,99 \text{ km} = \underline{\hspace{2cm}} \text{ cm}$

$3,51 \text{ m} = \underline{\hspace{2cm}} \text{ cm}$


$7,01 \text{ km} = \underline{\hspace{2cm}} \text{ mm}$

$4,04 \text{ km} = \underline{\hspace{2cm}} \text{ m}$

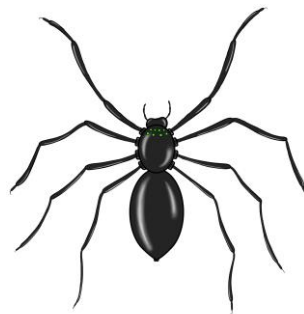
3. Welche Einheit passt? Trage km, m, dm, cm oder mm ein.




2 _____



24 _____



20 _____



2 _____



2 _____

