

Name:

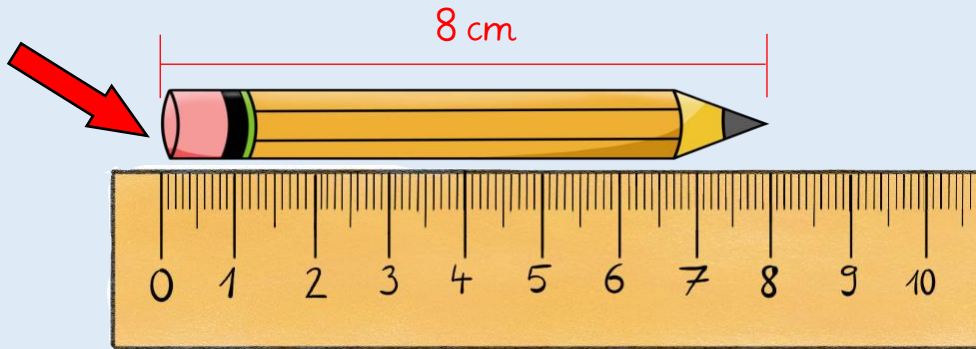
Klasse:

Datum:

## Längen schätzen und messen: Zentimeter

Mit dem Lineal kannst du messen, wie lang etwas ist. Die Zahlen zeigen die Länge in Zentimetern (1 Zentimeter = 1 cm).

Lege  
genau  
bei der  
0 an!



1. Schätze, wie lang dein Stift ist. Überprüfe deine Schätzung **danach** mit dem Lineal.

Schätzung: \_\_\_\_\_ gemessene Länge: \_\_\_\_\_

2. Schätze die Längen der Stifte. Miss **danach** mit dem Lineal.




Schätzung:



Schätzung:

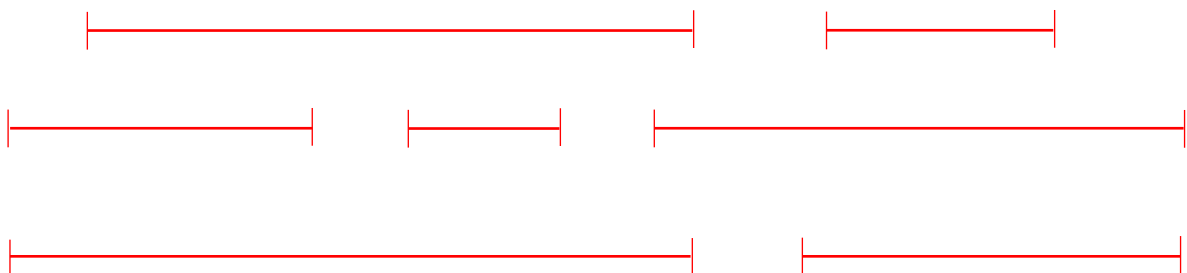


Schätzung:

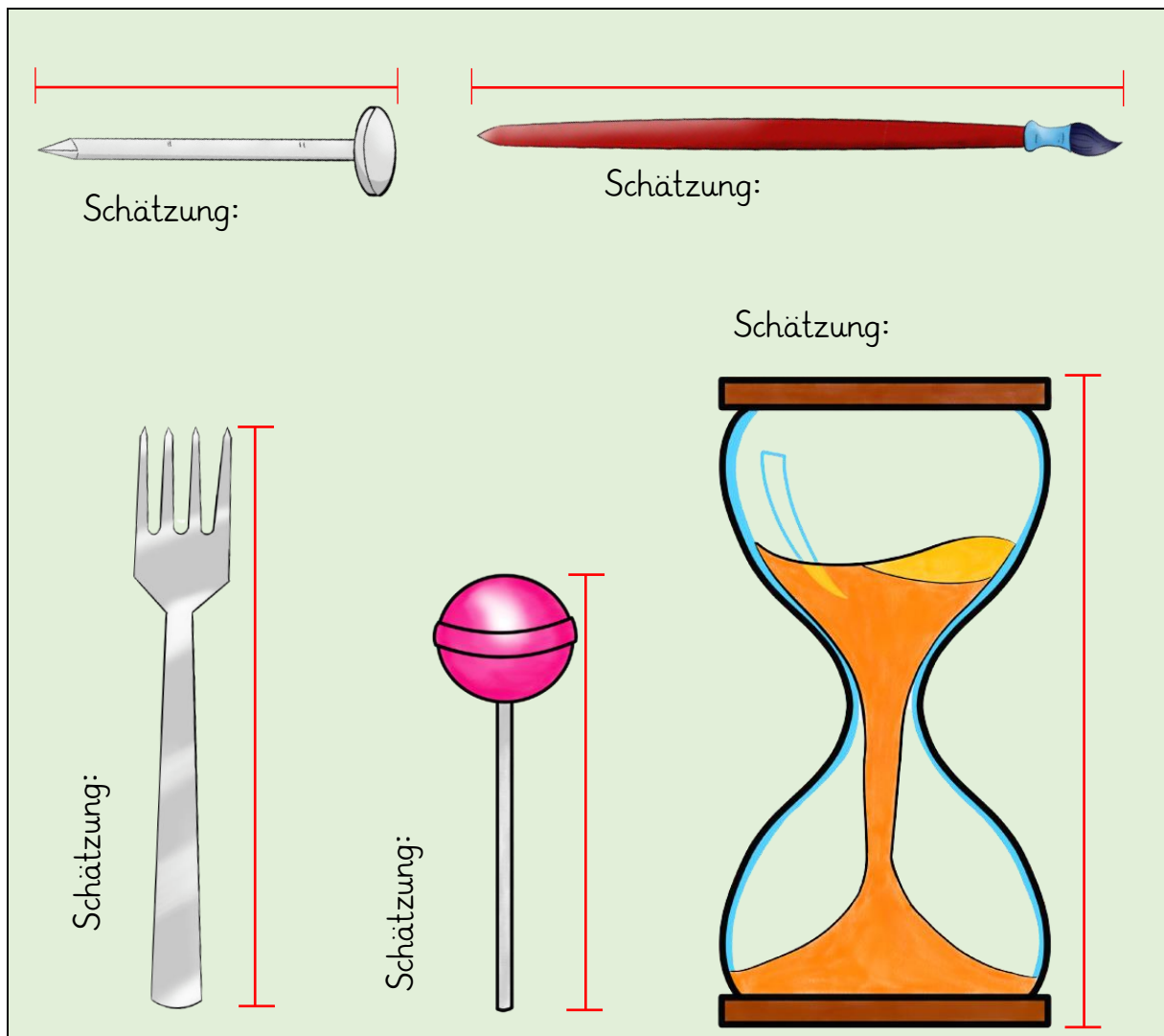


Schätzung:

3. Miss, wie lang die Strecken sind.



4. Schätze bei jedem Gegenstand die ungefähre Länge. Überprüfe deine Schätzung **danach** mit dem Lineal.



5. Finde 3 Dinge, die ungefähr 1 cm groß sind.

ungefähr 1 cm: \_\_\_\_\_

6. Suche dir 3 weitere Gegenstände aus. Schätze und messe ihre Länge.

Gegenstand	Schätzung	Messung