

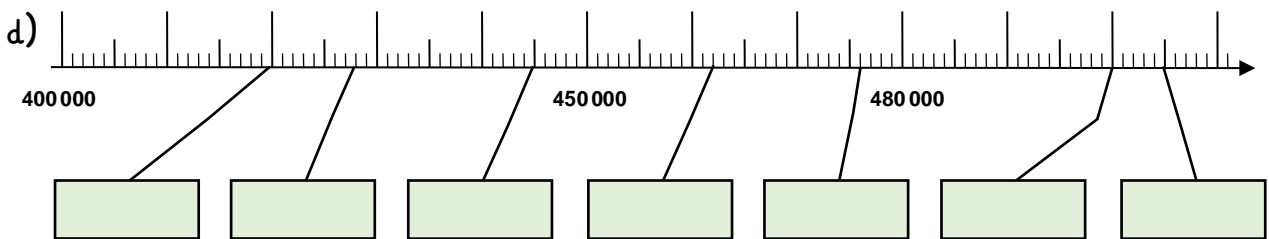
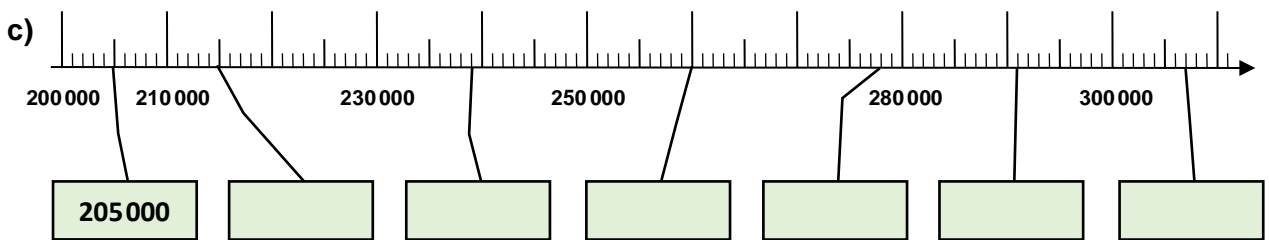
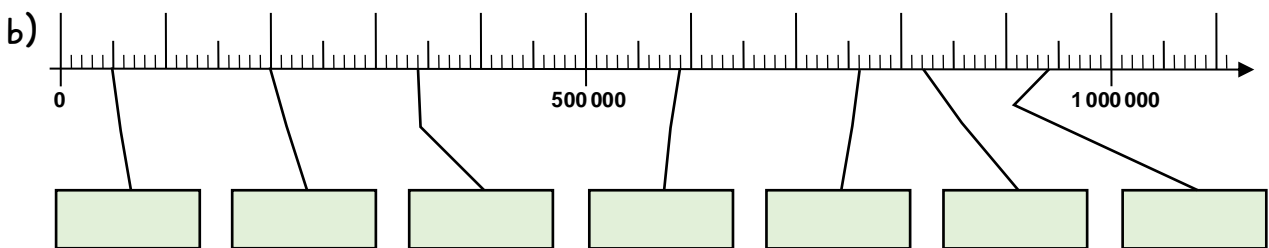
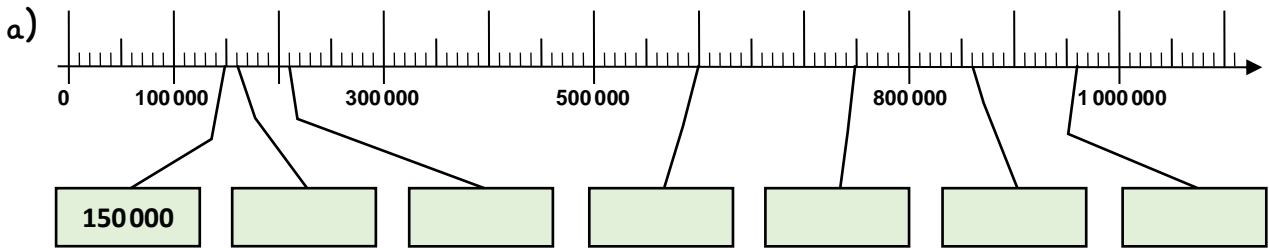
Name:

Klasse:

Datum:

Die Zahlen bis 1 000 000

1. Trage die Zahlen in die Kästen ein.



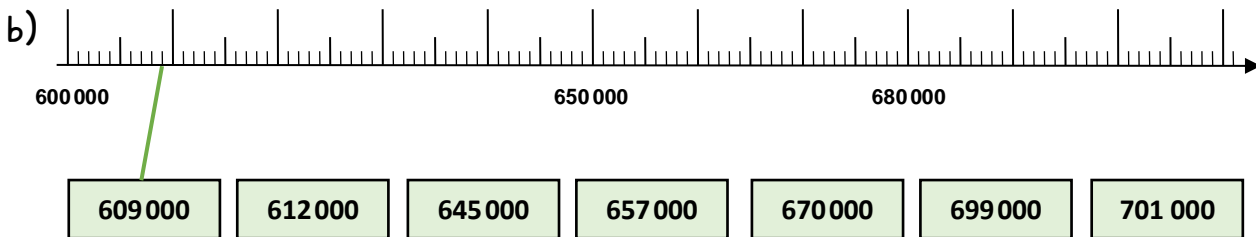
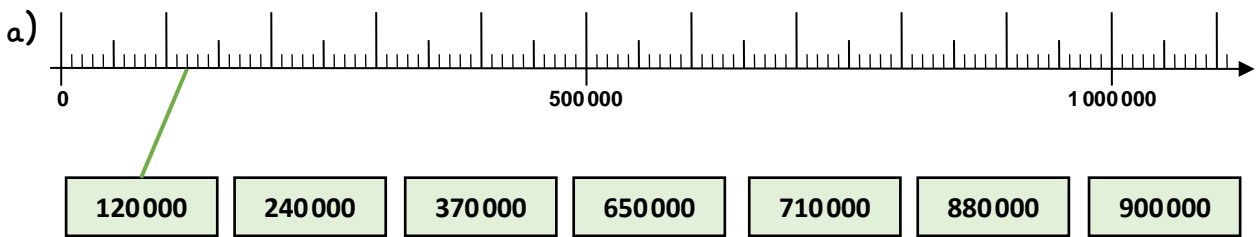
2. Trage die Nachbarzehntausender und Nachbarhunderttausender ein.

Nachbarzehntausender		
200 000	205 400	210 000
	239 000	
	278 000	
	428 000	
	476 000	

Nachbarhunderttausender		
100 000	150 000	200 000
	210 000	
	590 000	
	940 000	
	50 000	



3. Verbinde die Kästen mit den passenden Stellen am Zahlenstrahl.



4. Ergänze zur nächsten Zehntausenderzahl. Nutze den Zahlenstrahl.

a) 609 000 + <u>1 000</u> = <u>610 000</u>	b) 699 000 + _____ = _____
612 000 + _____ = <u>620 000</u>	701 000 + _____ = _____
645 000 + _____ = _____	176 000 + _____ = _____
657 000 + _____ = _____	923 000 + _____ = _____

5. Ergänze zur nächsten Hunderttausenderzahl. Nutze den Zahlenstrahl.

a) 120 000 + _____ = <u>200 000</u>	b) 710 000 + _____ = _____
240 000 + _____ = <u>300 000</u>	880 000 + _____ = _____
370 000 + _____ = _____	490 000 + _____ = _____
650 000 + _____ = _____	199 000 + _____ = _____

6. Zähle in Schritten vorwärts und rückwärts. Der Zahlenstrahl hilft dir.

- a) 240 000, 320 000, 400 000, _____, _____, _____, _____, _____
- b) 612 000, 616 000, 620 000, _____, _____, _____, _____, _____
- c) _____, _____, _____, _____, _____, 700 000, 750 000, 800 000
- d) _____, _____, _____, _____, _____, 625 000, 650 000, 675 000, _____

