

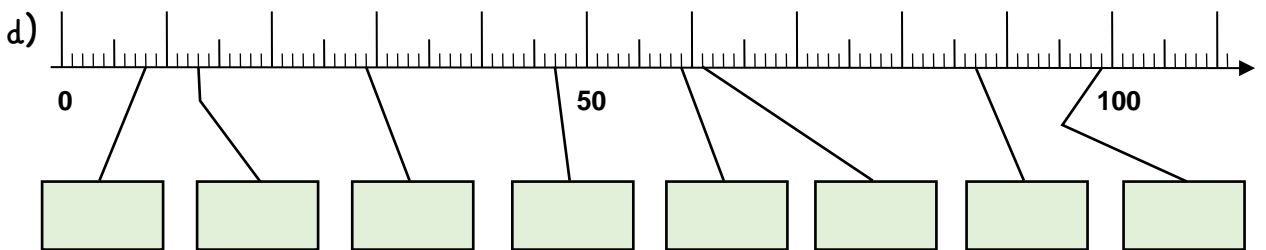
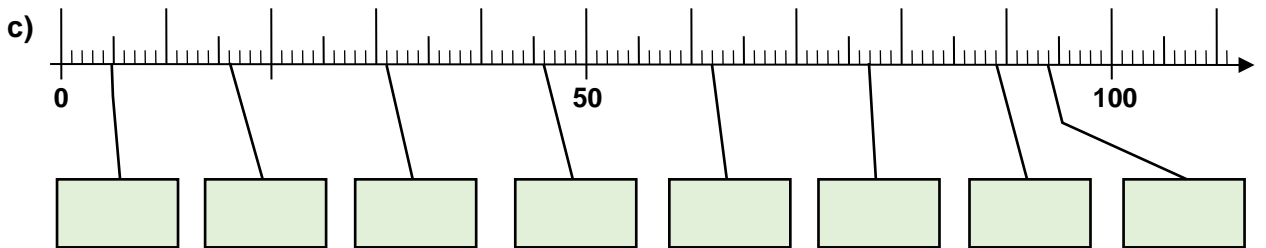
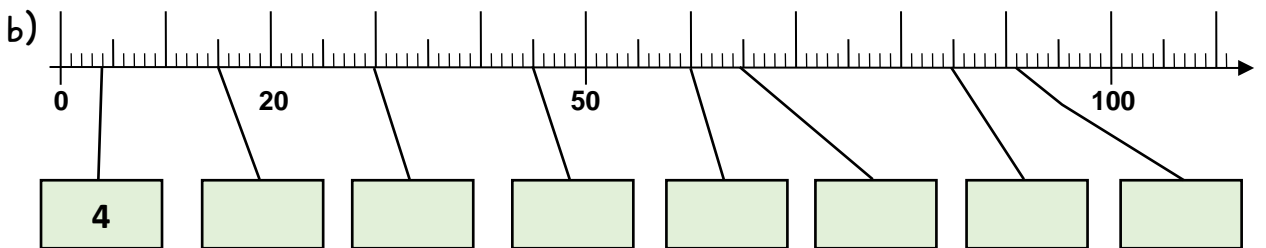
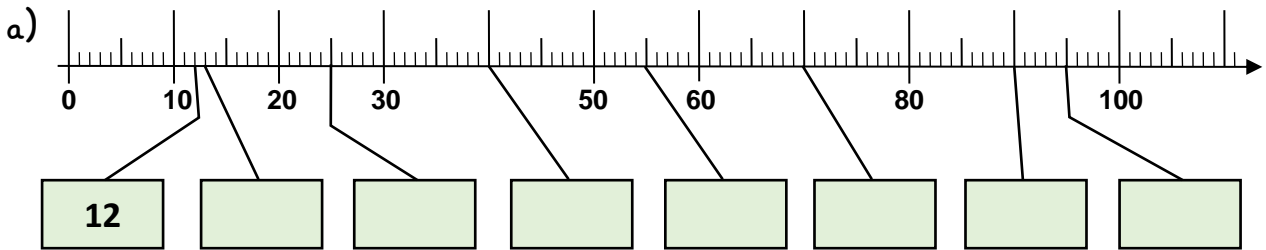
Name:

Klasse:

Datum:

Die Zahlen bis 100

1. Trage die Zahlen in die Kästen ein.



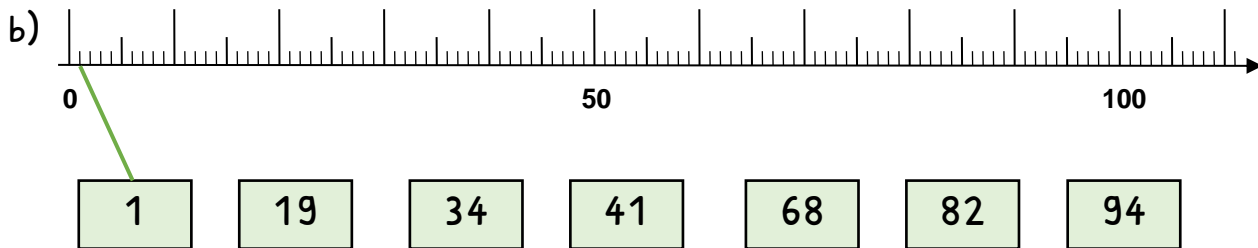
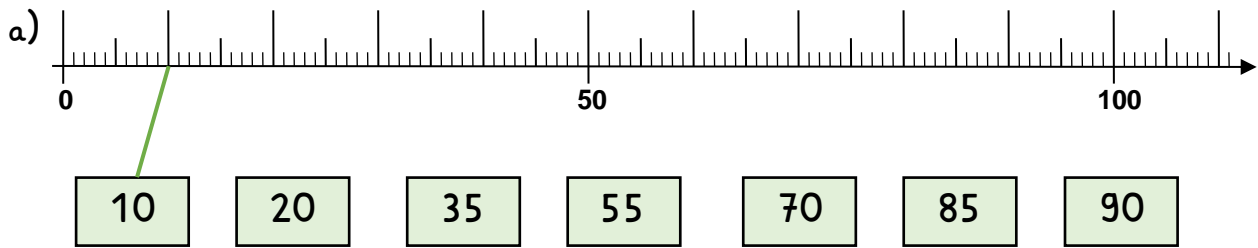
2. Trage die Nachbarzahlen und Nachbarzehner ein.

Nachbarzahlen		
11	12	13
	25	
	31	
	99	
	50	

Nachbarzehner		
80	46	90
	62	
	29	
	87	
	99	



3. Verbinde die Kästen mit den passenden Stellen am Zahlenstrahl.



4. Ergänze zur nächsten Zehnerzahl. Nimm den Zahlenstrahl zur Hilfe.

a) $35 + \underline{5} = \underline{40}$

b) $85 + \underline{\quad} = \underline{\quad}$

$19 + \underline{\quad} = \underline{20}$

$68 + \underline{\quad} = \underline{\quad}$

$55 + \underline{\quad} = \underline{\quad}$

$82 + \underline{\quad} = \underline{\quad}$

$34 + \underline{\quad} = \underline{\quad}$

$94 + \underline{\quad} = \underline{\quad}$

$41 + \underline{\quad} = \underline{\quad}$

$78 + \underline{\quad} = \underline{\quad}$

5. Zähle vorwärts und rückwärts in Schritten. Der Zahlenstrahl hilft dir.

a) 0, 10, 20, _____, _____, _____, _____, _____, _____, _____

b) 0, 5, 10, _____, _____, _____, _____, _____, _____, _____

c) 20, 21, 22, _____, _____, _____, _____, _____, _____, _____

d) 50, 51, 52, _____, _____, _____, _____, _____, _____, _____

e) 20, 24, 26, _____, _____, _____, _____, _____, _____, _____

f) _____, _____, _____, _____, _____, _____, _____, 38, 39, 40

g) _____, _____, _____, _____, _____, _____, _____, _____, 46, 48, 50