

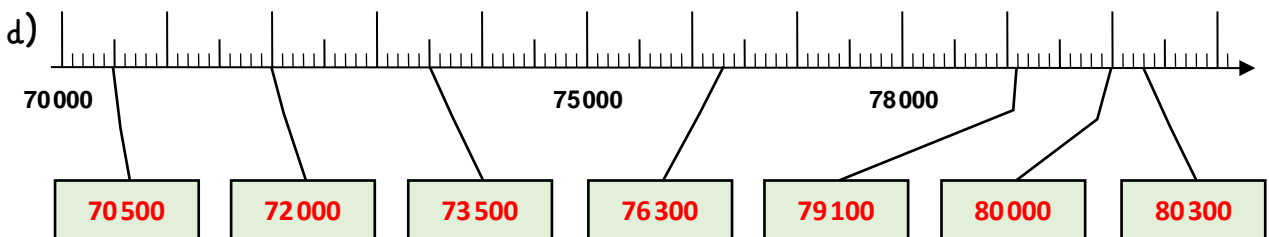
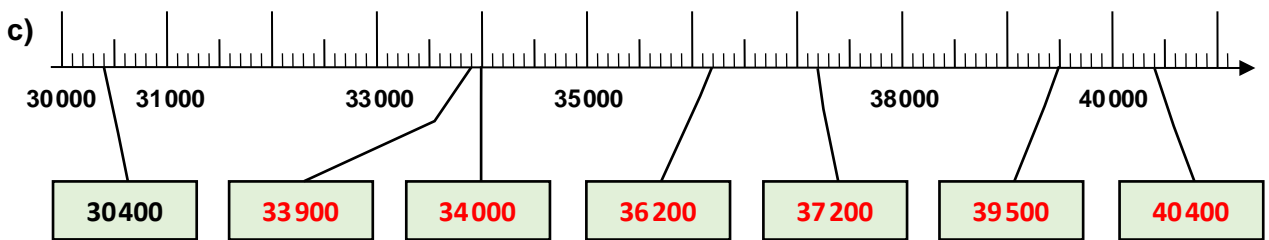
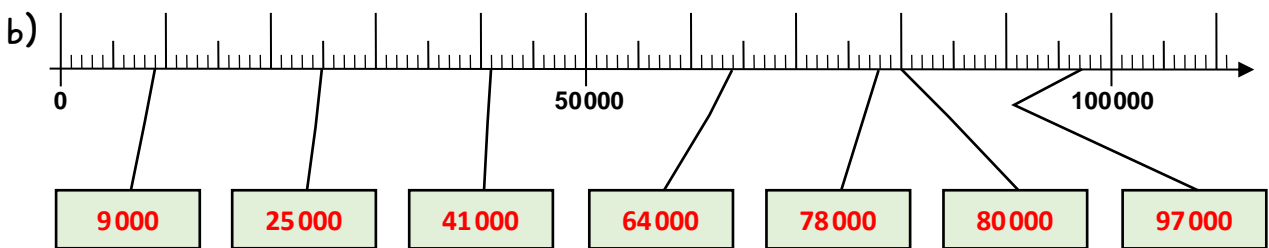
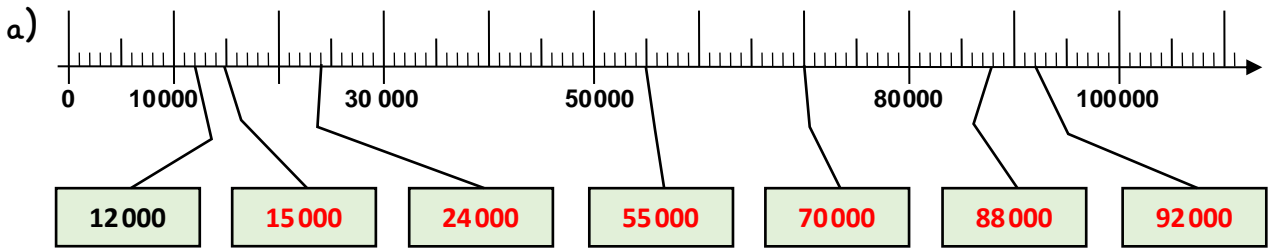
Name:

Klasse:

Datum:

Die Zahlen bis 100 000

1. Trage die Zahlen in die Kästen ein.



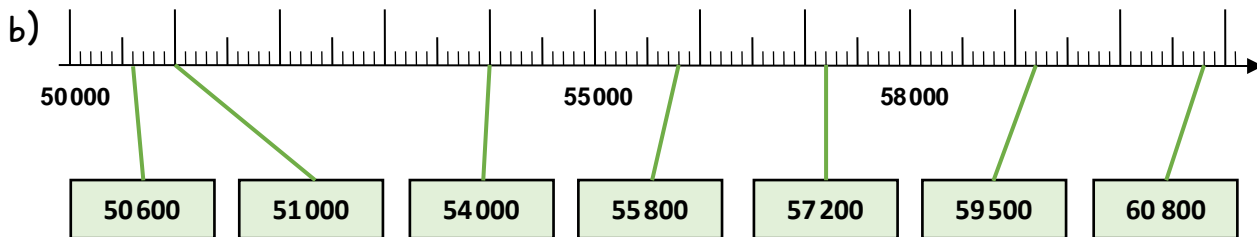
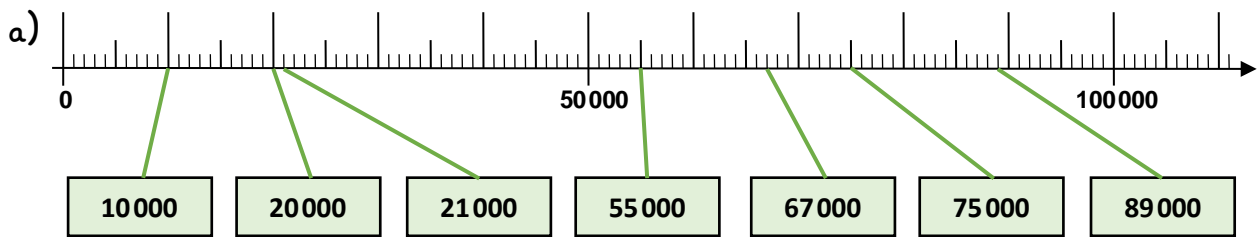
2. Trage die Nachbartausender und Nachbarzehntausender ein.

Nachbartausender		
30 000	30 400	31 000
33 000	33 900	34 000
37 000	37 200	38 000
70 000	70 500	71 000
76 000	76 300	77 000

Nachbarzehntausender		
10 000	12 000	20 000
20 000	24 000	30 000
40 000	41 000	50 000
36 000	36 200	40 000
76 000	76 300	80 000



3. Verbinde die Kästen mit den passenden Stellen am Zahlenstrahl.



4. Ergänze zur nächsten Tausenderzahl. Nimm den Zahlenstrahl zur Hilfe.

a) $50\,600 + \underline{400} = \underline{51\,000}$	b) $60\,800 + \underline{200} = \underline{61\,000}$
$55\,800 + \underline{200} = \underline{56\,000}$	$65\,800 + \underline{200} = \underline{66\,000}$
$57\,200 + \underline{800} = \underline{58\,000}$	$67\,900 + \underline{100} = \underline{68\,000}$
$59\,500 + \underline{500} = \underline{60\,000}$	$75\,300 + \underline{700} = \underline{76\,000}$

5. Ergänze zur nächsten Zehntausenderzahl. Nutze den Zahlenstrahl.

a) $21\,000 + \underline{9\,000} = \underline{30\,000}$	b) $89\,000 + \underline{1\,000} = \underline{90\,000}$
$55\,000 + \underline{5\,000} = \underline{60\,000}$	$54\,000 + \underline{6\,000} = \underline{60\,000}$
$67\,000 + \underline{3\,000} = \underline{70\,000}$	$74\,000 + \underline{6\,000} = \underline{80\,000}$
$75\,000 + \underline{5\,000} = \underline{80\,000}$	$59\,500 + \underline{500} = \underline{60\,000}$

6. Zähle in Schritten vorwärts und rückwärts. Der Zahlenstrahl hilft dir.

- a) 12 000, 24 000, 36 000, 48 000 , 60 000 , 72 000 , 84 000 , 90 000
- b) 50 000, 52 500, 55 000, 57 500 , 60 000 , 62 500 , 65 000 , 67 500
- c) 40 000 , 45 000 , 50 000 , 55 000 , 60 000 , 65 000, 70 000, 75 000
- d) 50 000 , 53 000 , 56 000 , 59 000 , 62 000, 65 000, 68 000, 72 000

