

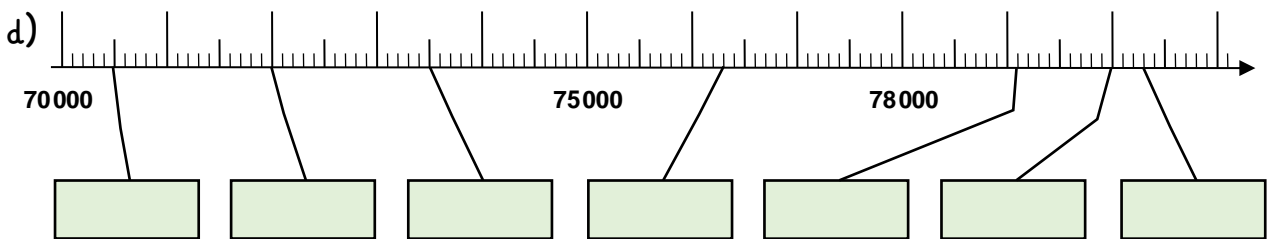
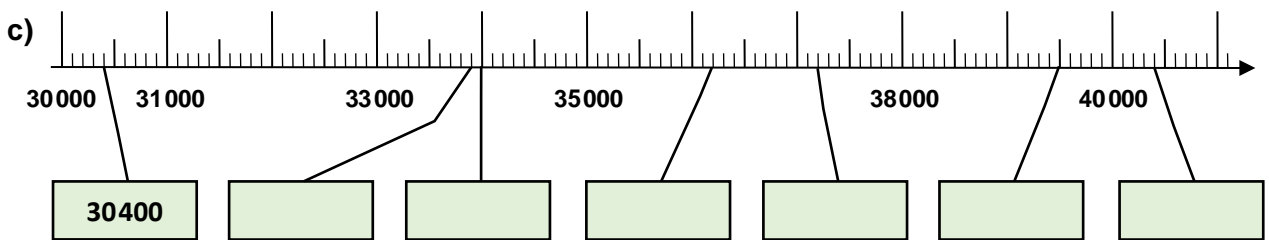
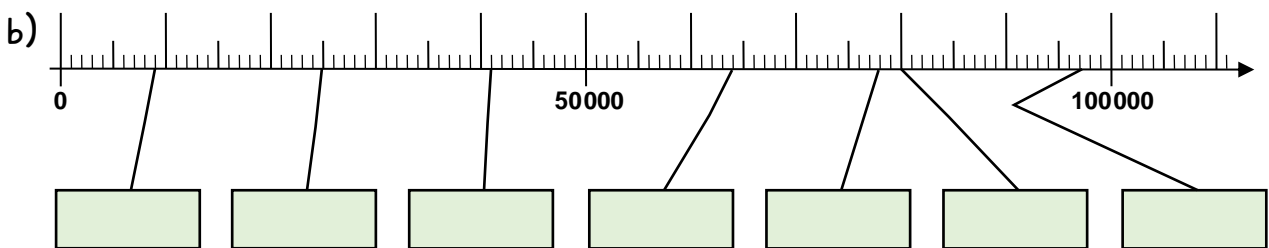
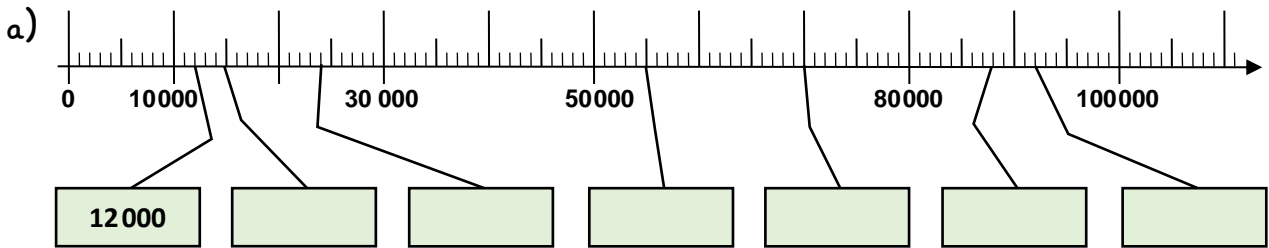
Name:

Klasse:

Datum:

Die Zahlen bis 100 000

1. Trage die Zahlen in die Kästen ein.



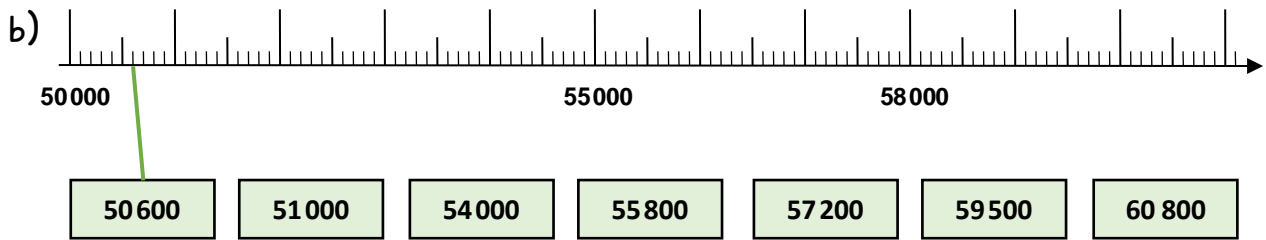
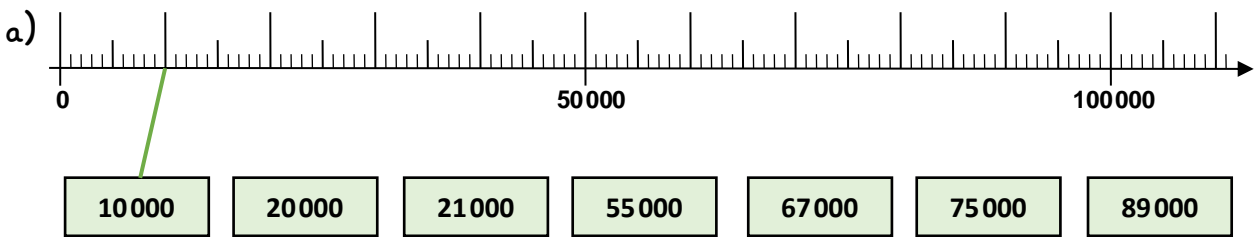
2. Trage die Nachbartausender und Nachbarzehntausender ein.

Nachbartausender		
30 000	30 400	31 000
	33 900	
	37 200	
	70 500	
	76 300	

Nachbarzehntausender		
10 000	12 000	20 000
	24 000	
	41 000	
	36 200	
	76 300	



3. Verbinde die Kästen mit den passenden Stellen am Zahlenstrahl.



4. Ergänze zur nächsten Tausenderzahl. Nimm den Zahlenstrahl zur Hilfe.

a) 50 600 + <u>400</u> = <u>51 000</u>	b) 60 800 + _____ = _____
55 800 + _____ = <u>56 000</u>	65 800 + _____ = _____
57 200 + _____ = _____	67 900 + _____ = _____
59 500 + _____ = _____	75 300 + _____ = _____

5. Ergänze zur nächsten Zehntausenderzahl. Nutze den Zahlenstrahl.

a) 21 000 + _____ = <u>30 000</u>	b) 89 000 + _____ = _____
55 000 + _____ = <u>60 000</u>	54 000 + _____ = _____
67 000 + _____ = _____	74 000 + _____ = _____
75 000 + _____ = _____	59 500 + _____ = _____

6. Zähle in Schritten vorwärts und rückwärts. Der Zahlenstrahl hilft dir.

- a) 12 000, 24 000, 36 000, _____, _____, _____, _____, _____
- b) 50 000, 52 500, 55 000, _____, _____, _____, _____, _____
- c) _____, _____, _____, _____, _____, _____, 65 000, 70 000, 75 000
- d) _____, _____, _____, _____, _____, 62 000, 65 000, 68 000, _____

