

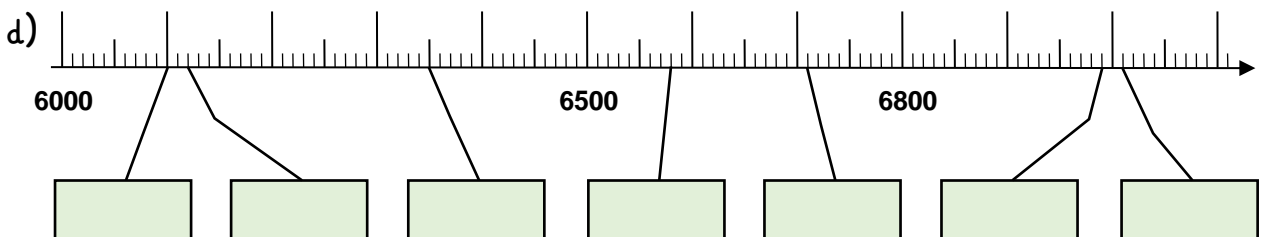
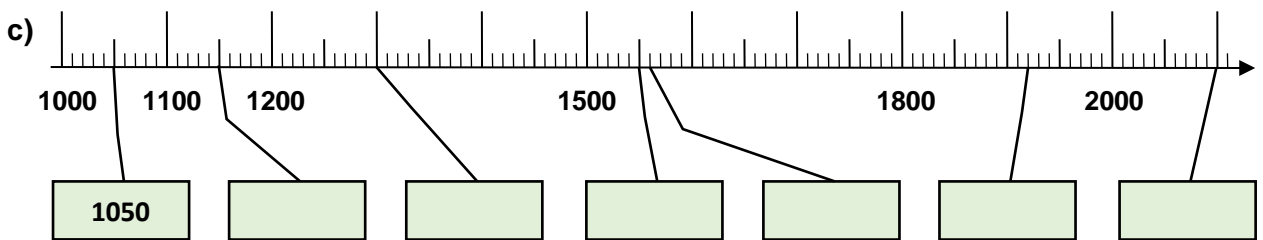
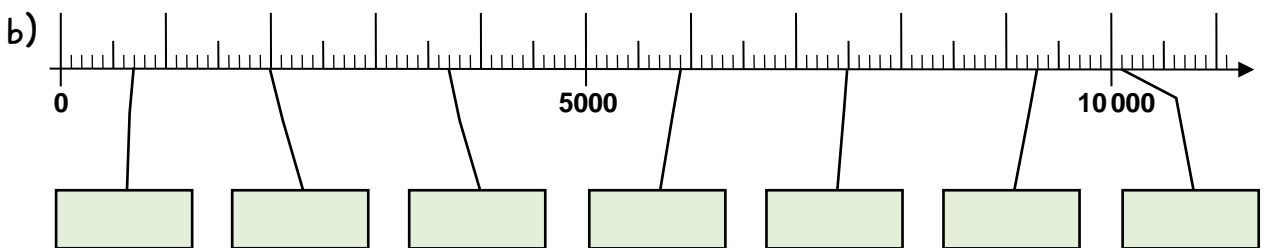
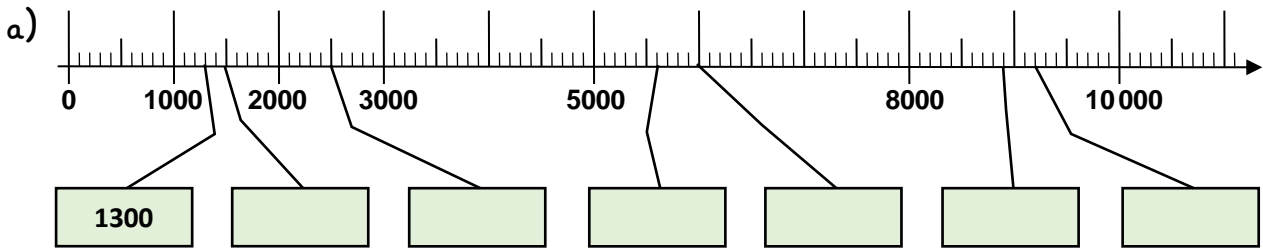
Name:

Klasse:

Datum:

## Die Zahlen bis 10 000

1. Trage die Zahlen in die Kästen ein.



2. Trage Nachbarzehner, Nachbarhunderter und Nachbartausender ein.

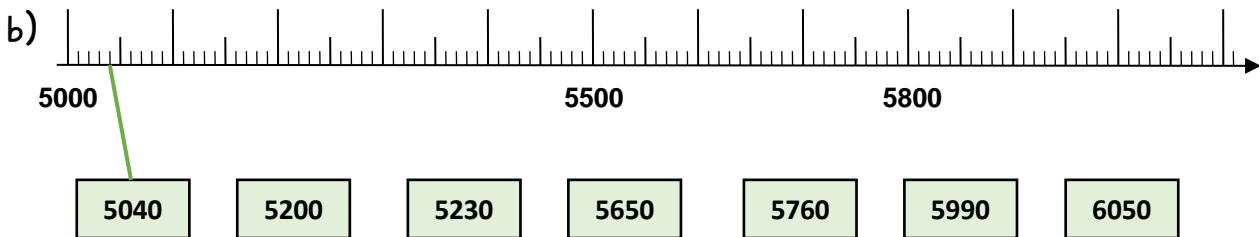
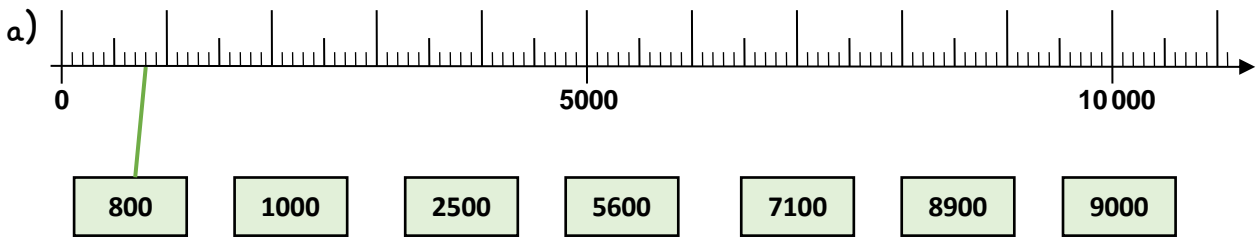
Nachbarzehner		
1 010	1 015	1 020
	1 086	
	1 253	
	5 051	
	5 838	

Nachbarhunderter		
1 100	1 150	1 200
	1 550	
	1 866	
	6 120	
	6 561	

Nachbartausender		
1 000	1 300	2 000
	6 500	
	6 710	
	8 888	
	9 451	



3. Verbinde die Kästen mit den passenden Stellen am Zahlenstrahl.



4. Ergänze zur nächsten Hunderterzahl. Nutze den Zahlenstrahl als Hilfe.

a)  $5040 + \underline{60} = \underline{5100}$       b)  $5230 + \underline{\quad\quad} = \underline{\quad\quad}$   
 $6050 + \underline{\quad\quad} = \underline{6100}$        $5650 + \underline{\quad\quad} = \underline{\quad\quad}$   
 $5760 + \underline{\quad\quad} = \underline{\quad\quad}$        $5990 + \underline{\quad\quad} = \underline{\quad\quad}$

5. Ergänze zur nächsten Tausenderzahl. Nutze den Zahlenstrahl als Hilfe.

a)  $2500 + \underline{\quad\quad} = \underline{3000}$       b)  $7100 + \underline{\quad\quad} = \underline{\quad\quad}$   
 $800 + \underline{\quad\quad} = \underline{1000}$        $8900 + \underline{\quad\quad} = \underline{\quad\quad}$   
 $5600 + \underline{\quad\quad} = \underline{\quad\quad}$        $9750 + \underline{\quad\quad} = \underline{\quad\quad}$

6. Zähle in Schritten vorwärts und rückwärts. Der Zahlenstrahl hilft dir.

- a) 500, 1000, 1500, \_\_\_\_\_, \_\_\_\_\_, \_\_\_\_\_, \_\_\_\_\_, \_\_\_\_\_
- b) 4200, 4600, 5000, \_\_\_\_\_, \_\_\_\_\_, \_\_\_\_\_, \_\_\_\_\_, \_\_\_\_\_
- c) \_\_\_\_\_, \_\_\_\_\_, \_\_\_\_\_, \_\_\_\_\_, \_\_\_\_\_, 6200, 6300, 6400
- d) \_\_\_\_\_, \_\_\_\_\_, \_\_\_\_\_, 5000, 5250, 5500, \_\_\_\_\_, \_\_\_\_\_

