

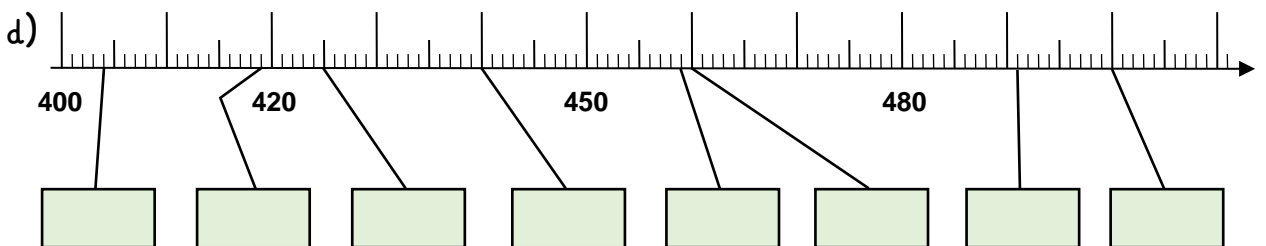
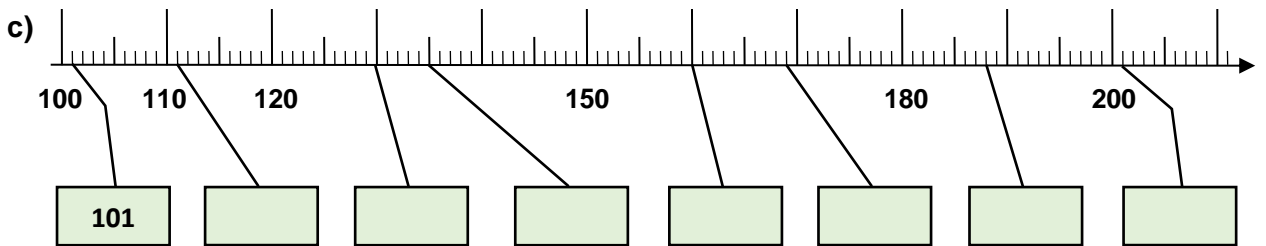
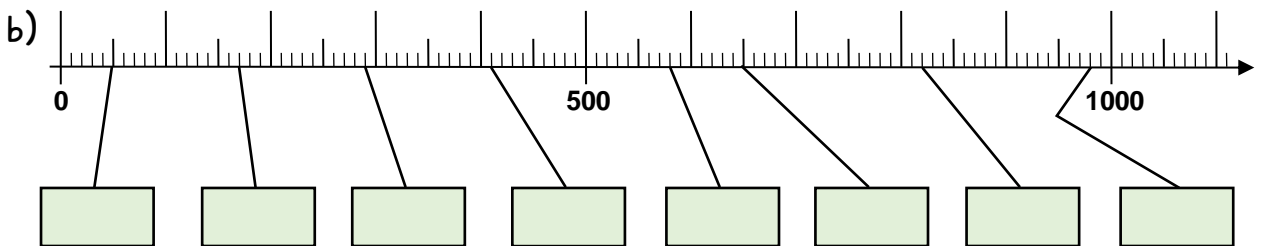
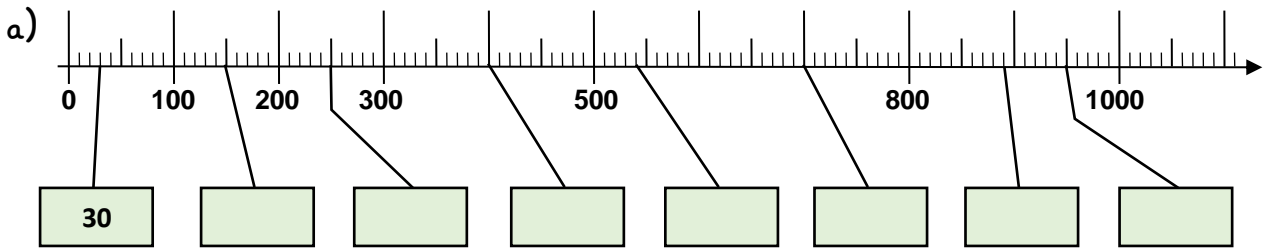
Name:

Klasse:

Datum:

Die Zahlen bis 1 000

1. Trage die Zahlen in die Kästen ein.



2. Trage Nachbarzahlen, Nachbarzehner und Nachbarhunderter ein.

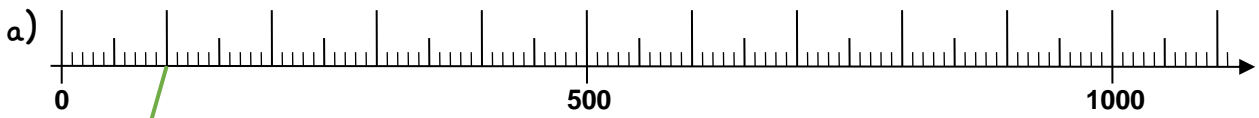
Nachbarzahlen		
104	105	106
	111	
	425	
	450	
	632	

Nachbarzehner		
180	187	190
	135	
	445	
	491	
	856	

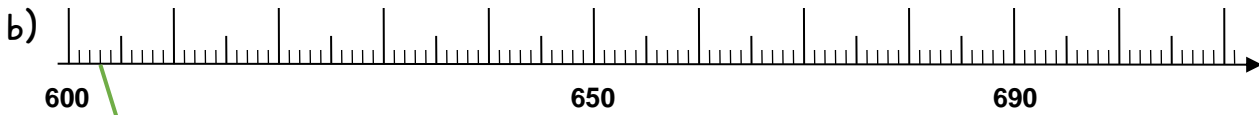
Nachbarhunderter		
400	419	500
	156	
	256	
	491	
	970	



3. Verbinde die Kästen mit den passenden Stellen am Zahlenstrahl.



100 50 360 420 750 880 910



603 609 624 641 655 670 705

4. Ergänze zur nächsten Zehnerzahl.

a) $609 + \underline{1} = \underline{610}$

b) $287 + \underline{\quad} = \underline{\quad}$

$624 + \underline{\quad} = \underline{630}$

$563 + \underline{\quad} = \underline{\quad}$

$655 + \underline{\quad} = \underline{\quad}$

$992 + \underline{\quad} = \underline{\quad}$

5. Ergänze zur nächsten Hunderterzahl.

a) $360 + \underline{\quad} = \underline{400}$

b) $420 + \underline{\quad} = \underline{\quad}$

$750 + \underline{\quad} = \underline{800}$

$910 + \underline{\quad} = \underline{\quad}$

$880 + \underline{\quad} = \underline{\quad}$

$670 + \underline{\quad} = \underline{\quad}$

6. Zähle vorwärts und rückwärts in Schritten. Der Zahlenstrahl hilft dir.

a) 0, 100, 200, _____, _____, _____, _____, _____, _____

b) 200, 250, 300, _____, _____, _____, _____, _____, _____

c) _____, _____, _____, _____, _____, _____, _____, 180, 190, 200

d) _____, _____, _____, _____, _____, _____, _____, 660, 680, 700