

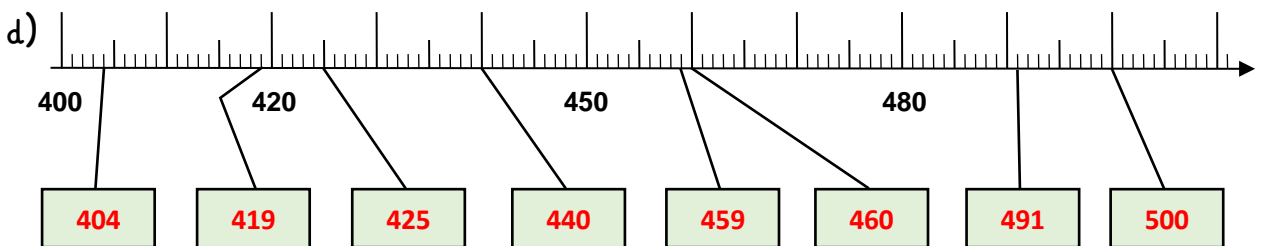
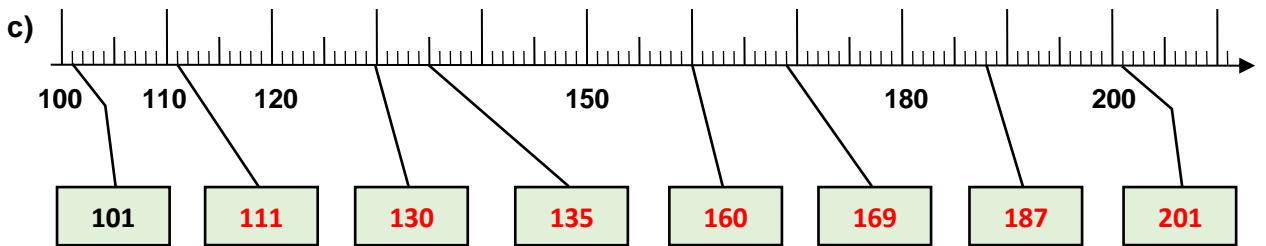
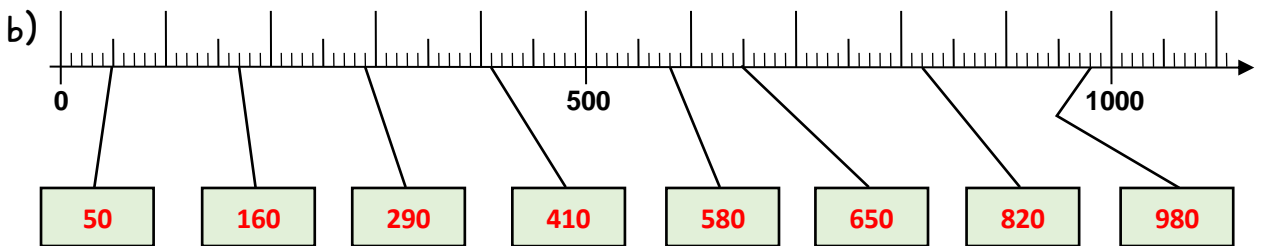
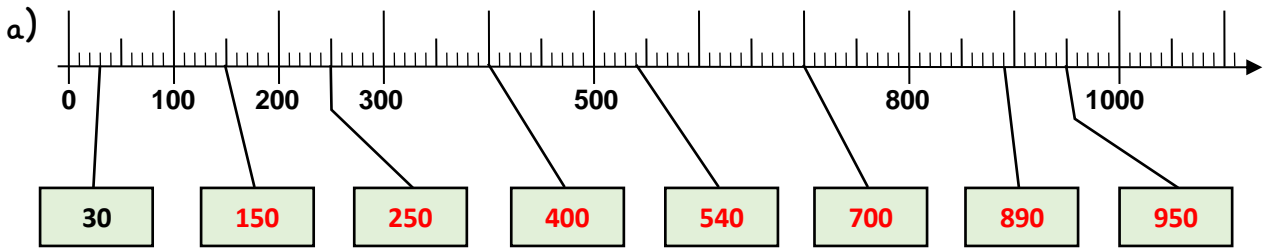
Name:

Klasse:

Datum:

Die Zahlen bis 1 000

1. Trage die Zahlen in die Kästen ein.



2. Trage Nachbarzahlen, Nachbarzehner und Nachbarhunderter ein.

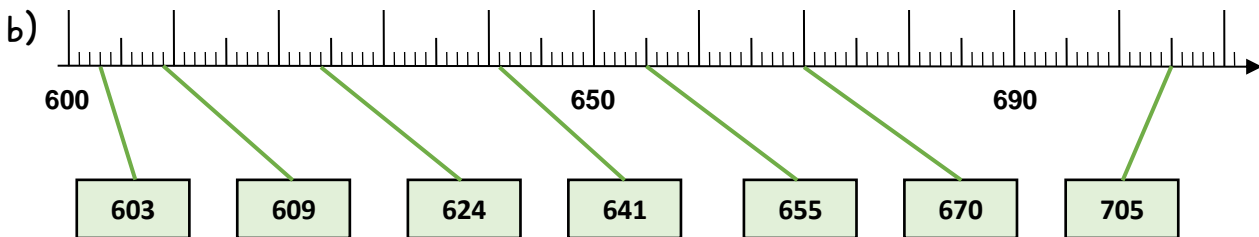
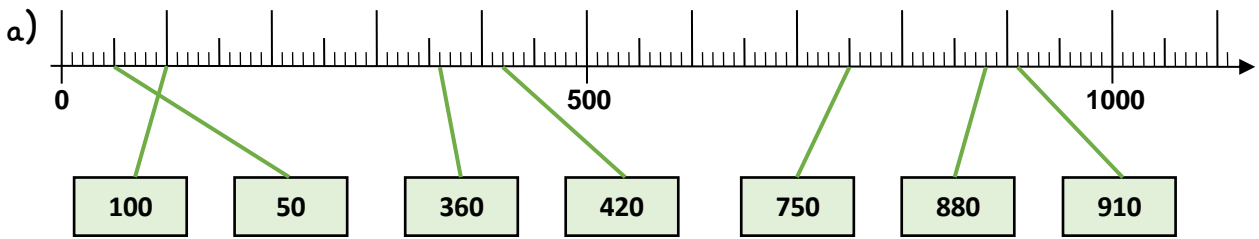
Nachbarzahlen		
104	105	106
110	111	112
424	425	426
449	450	451
631	632	633

Nachbarzehner		
180	187	190
130	135	140
440	445	450
490	491	500
850	856	860

Nachbarhunderter		
400	419	500
100	156	200
200	256	300
400	491	500
900	970	1 000



3. Verbinde die Kästen mit den passenden Stellen am Zahlenstrahl.



4. Ergänze zur nächsten Zehnerzahl.

a) $609 + \underline{1} = \underline{610}$

b) $287 + \underline{3} = \underline{290}$

$624 + \underline{6} = \underline{630}$

$563 + \underline{7} = \underline{570}$

$655 + \underline{5} = \underline{660}$

$992 + \underline{8} = \underline{1000}$

5. Ergänze zur nächsten Hunderterzahl.

a) $360 + \underline{40} = \underline{400}$

b) $420 + \underline{80} = \underline{500}$

$750 + \underline{50} = \underline{800}$

$910 + \underline{90} = \underline{1000}$

$880 + \underline{20} = \underline{900}$

$670 + \underline{30} = \underline{700}$

6. Zähle vorwärts und rückwärts in Schritten. Der Zahlenstrahl hilft dir.

a) 100, 200, 300, 400, 500, 600, 700, 800, 900, 1000

b) 200, 250, 300, 350, 400, 450, 500, 550, 600, 650

c) 110, 120, 130, 140, 150, 160, 170, 180, 190, 200

d) 320, 440, 460, 580, 600, 620, 640, 660, 680, 700

