


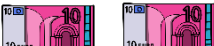





Name:

Klasse:

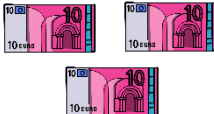
Datum:

Schriftliche Addition

1. Kreise das Wechselgeld ein und rechne das Ergebnis aus. Du wechselst immer, wenn du 10 oder mehr Geldstücke von einer Sorte hast.

H	Z	E
		
		
	10 	
	$2 + 1 + 1 =$	$8 + 4 = 12$ $12 - 10 = 2$

H	Z	E
1	2	8
+	3	1
		4
		1
		2

H	Z	E
		
		
		$9 + 5 =$

H	Z	E
2	1	9
+	4	3
		5

2. Lege mit Rechengeld und rechne aus. Denke an das Wechselgeld!

H	Z	E
3	5	9
+	2	3
		5
		1


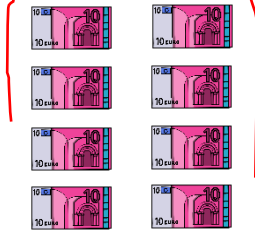



H	Z	E
6	2	7
+	3	5
		8

H	Z	E
1	3	7
+	5	2
		4

H	Z	E
4	3	8
+	4	3
		8



3. Wechsele zehn 10€ - Scheine gegen einen 100€ - Schein und rechne aus.

H	Z	E
	 	
		

H	Z	E
1	8	2
2	4	3

4. Lege mit Rechengeld und rechne aus. Denke an das Wechselgeld!

H	Z	E
3	9	4
3	2	4
1		

H	Z	E
3	9	4
4	6	5

H	Z	E
2	6	3
4	6	5

H	Z	E
2	6	3
3	7	4

5. Lege mit Rechengeld und rechne. Manchmal musst du 2 Mal Geld wechseln!

	3	2	4				1	8	0										2	4	4			
	+	3	3	8			+	7	7	7									+	6	7	8		
	1	4	2					2	9	5											2	9	5	
	+	6	3	9			+	3	5	7									+	4	0	5		

