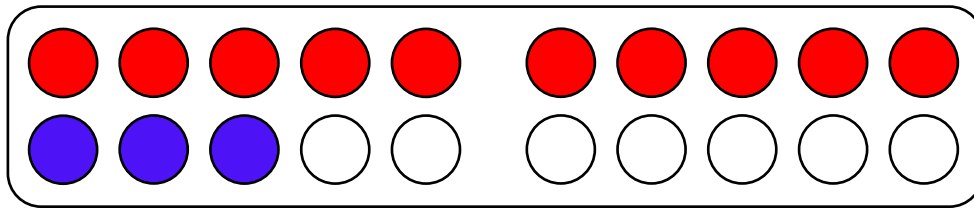


Name:

Klasse:

Datum:

Zahlen mit der 10 schnell sehen

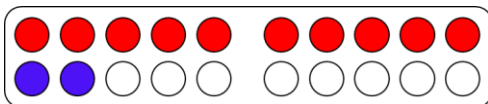


1. Antwort 1: Es gibt 10 rote und 3 blaue Punkte.
Antwort 2: Eine volle Reihe ergibt immer 10.

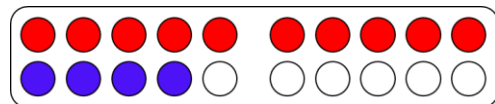
2. In der 13 wurde eine Rechenaufgabe versteckt. Schreibe mit einem blauen Stift auf, welche Zahl für die Aufgabe fehlt.

$$10 + 3 = 13$$

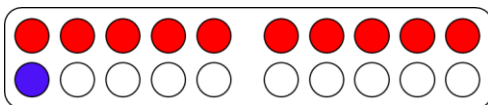
3. Schreibe zu jedem Bild auf, welche Rechenaufgabe du **ohne zu zählen** sehen kannst.



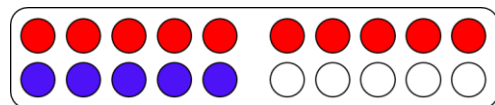
$$10 + 2 = 12$$



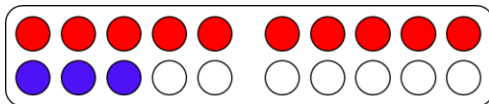
$$10 + 4 = 14$$



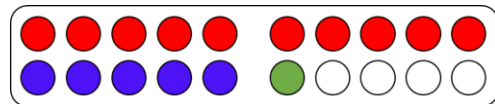
$$10 + 1 = 11$$



$$10 + 5 = 15$$



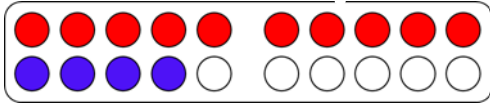
$$10 + 3 = 13$$



$$10 + 5 + 1 = 16$$

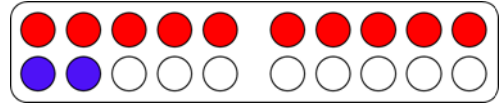


4. Lege jede Zahl so mit Plättchen, dass man sie **schnell sehen** kann, ohne zählen zu müssen. Zeichne sie danach ein und schreibe eine Rechenaufgabe, die in der Zahl versteckt ist.



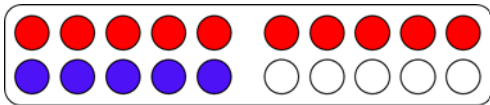
14

$$10 + 4 = 14$$



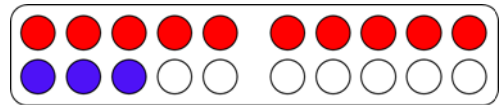
12

$$10 + 2 = 12$$



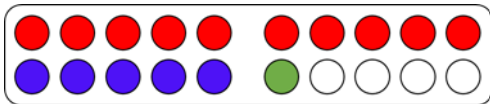
15

$$10 + 5 = 15$$



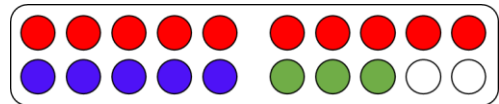
13

$$10 + 3 = 13$$



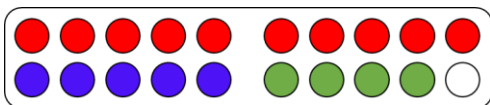
16

$$10 + 5 + 1 = 16$$



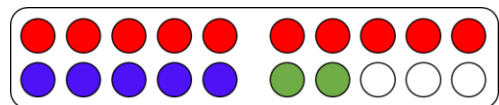
18

$$10 + 5 + 3 = 18$$



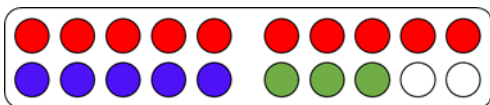
19

$$10 + 5 + 4 = 19$$

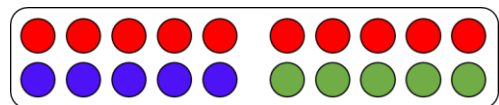


17

$$10 + 5 + 2 = 17$$



$$10 + 5 + 3 = 18$$



$$10 + 5 + 5 = 20$$

